

同步作业类

一年级数学 **下** 最新修订

主编 万志勇

# 黄网小状元 作业本



龍門書局

龙门品牌·学子至爱  
www.longmenshuj.com

班级

姓名

学号

BS




## 三、生活中的数

### 第一课时 数花生




#### 基础训练

1. 用不同的方法数一数。



- (1) 一只一只地数，需要数( )次。
- (2) 两只两只地数，需要数( )次。
- (3) ( )只( )只地数，需要数( )次。
- (4) ( )只( )只地数，需要数( )次。

2. 用你喜欢的方法数一数。



( )条


3. 在下面各数的后面，连续数出五个数来。

二十八 \_\_\_\_\_

四十九 \_\_\_\_\_

九十五 \_\_\_\_\_

4. 先估一估，再圈一圈，数一数。




估一估：\_\_\_\_\_只。

数一数：\_\_\_\_\_只。



#### 趣味作业

5. 想一想，怎样数得快？



有\_\_\_\_\_只，有\_\_\_\_\_条。








第二课时 数一数



基础训练

1. 数一数, 填一填。



(1) 10 只 10 只地数, 数了( )次, 还

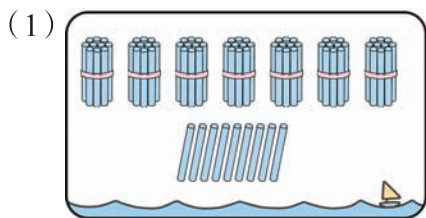
剩( )只, 一共有( )只。

(2) 如果再多 6 只, 请接着 1 只 1 只地往下数:

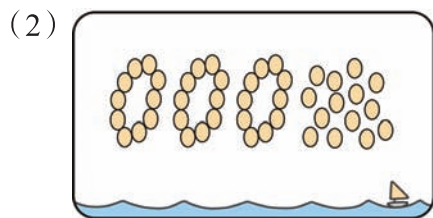
\_\_\_\_\_

\_\_\_\_\_

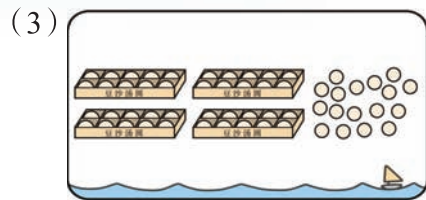
2. 数一数, 填一填。



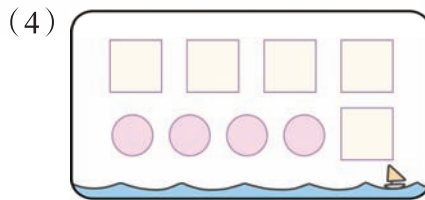
( ) 根



( ) 个



( ) 个




1 个 表示 1 个十,  
1 个 表示 1 个一,  
上图表示的数是( )。

3. 数一数, 再添多少就变成 100 了?



共有( )颗, 再添( )颗就变成 100 颗。



共有( )个,  
再添( )个就变成 100 个。



趣味作业

4. 淘淘的书从 21~32 面散开了, 风吹走了一张, 你知道吹走了的那一张正反两面的页码数吗?



吹走了的那一张正反两面的页码数是( )和( )。



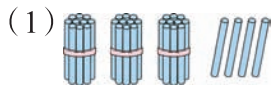


第三课时 数豆子




基础训练


1. 数一数，填一填。



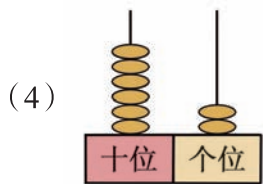
( ) 个十和 ( ) 个一是 ( )。 ( ) 个十和 ( ) 个一是 ( )。



(2) ( ) 个十和 ( ) 个一是 ( )。

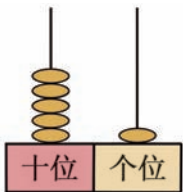


( ) 个十和 ( ) 个一是 ( )。

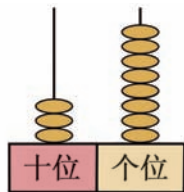


(4) ( ) 个十和 ( ) 个一是 ( )。

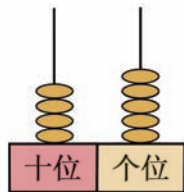
2. 写数。



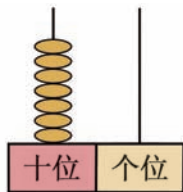
( )



( )



( )



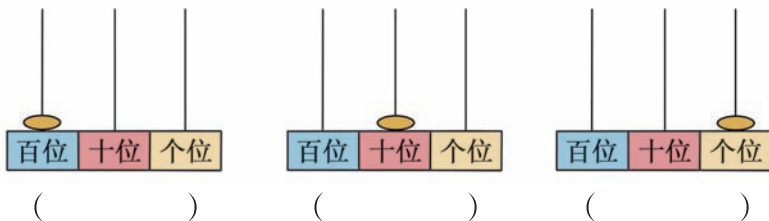
( )

3. 填一填。

- (1) 计数器右起第一位是 ( ) 位，第二位是 ( ) 位，第三位是 ( ) 位。
- (2) 89 的相邻数是 ( ) 和 ( )。
- (3) 5 个十和 8 个一组成的数是 ( )，再添 ( ) 个一就是 60。
- (4) 70 里面有 ( ) 个十，再添 ( ) 个十就是 100。
- (5) 67 里面有 ( ) 个十和 ( ) 个一，它后面的第 3 个数是 ( )。

4.

每个珠子各表示什么数？写出来。



拓展运用

5. 猜一猜，它们分别是多少？



我是一个两位数，个位上的数是最大的一位数，十位上的数比个位上的数小5。



我是一个十位和个位上的数相同的两位数，我的十位上的数与个位上的数的和是6。









第四课时 谁的红果多

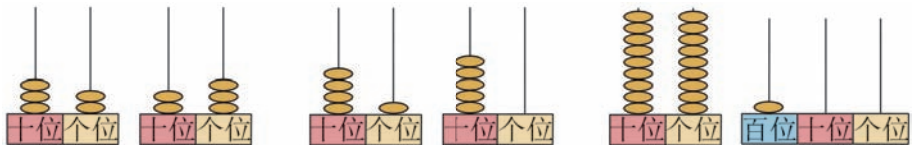


基础训练

1. 照样子，画跷跷板。




2. 写一写，比一比。



( ) ○ ( )    ( ) ○ ( )    ( ) ○ ( )

3. 乌龟比年龄。



4. 送鱼儿回家。(连一连)



5. 看一看，画一画。

○表示10，△表示1。

画一个和50相等的数。	画一个比50大的数。	画一个比50小的数。



趣味作业

6. 里可以填哪些数字?

(1)  $58 < 8$



里可以填( )。

(2)  $56 > 5$



里可以填( )。





### 第五课时 小小养殖场

#### 基础训练

1. 将写有正确答案的气球涂上你喜欢的颜色。

2. 选一选。(将正确答案的序号填在括号里)

(1) 比 24 多一些的数是 ( )。

- ① 28                      ② 52                      ③ 20

(2) ( ) 比 80 少得多。

- ① 100                      ② 75                      ③ 45

(3) 一个数比 58 多得多, 这个数可能是 ( )。

- ① 46                      ② 68                      ③ 100

3. 用“多一些、少一些、多得多、少得多”填空。

①号 48筐
 ②号 100筐

(1) ①号比②号 ( )。  
 (2) ②号比③号 ( )。  
 (3) ①号比③号 ( )。  
 (4) ③号比①号 ( )。

③号 50筐

4. 右边的作业本可能有多少本? 在合适的答案下面画“√”。

( ) ( ) ( )

#### 趣味作业

5. 猜数。







## 第六课时 做个百数表



## 基础训练

1. 下面是百数表的一部分, 请你根据规律把表补充完整。

			46	47	48	49	
	53	54	55				
				66	67	68	69
		73	74	75			
				86	87	88	89

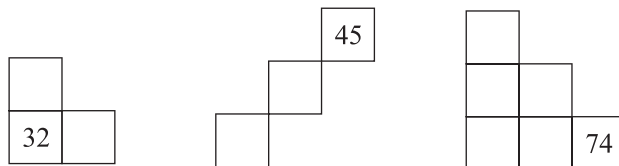


我发现: 同一行的数(最后一列数除外)\_\_\_\_\_位数字相等, 同一列的数\_\_\_\_\_位数字相等。

2. 按规律写数。



3. 根据百数表填一填。

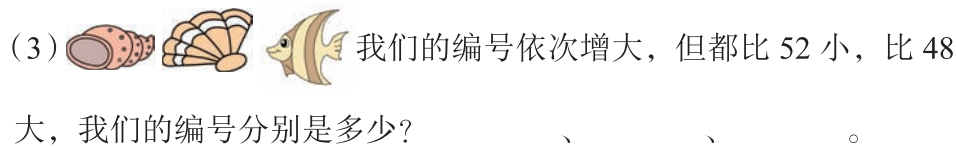
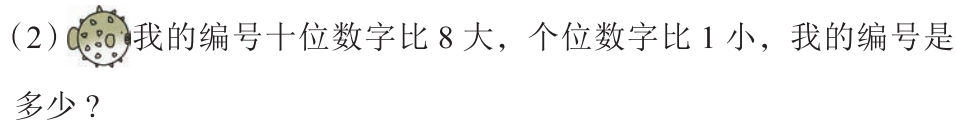


4. 给帆船编号。



## 趣味作业

5. 猜编号。





第七课时 练习二①



基础训练

1. 看图填一填。

( ) 个十和( )  
个一是( )。

( ) 个十和( )  
个一是( )。

( ) 个十和( )  
个一是( )。

( ) 个十和( )  
个一是( )。

2. 谁做的风车最多? (画“○”) 谁做的风车最少? (画“√”)






3. 我会写数。(各写5个)

个位上是5的两位数

十位上是3的两位数

个位和十位上的数字相等的两位数



4. 下面是百数表的一部分, 请你根据百数表的规律填数。

			48		
51			55		
				68	



拓展运用

5. 从3、0、6、9这四个数中选两个不同的数字组成两位数, 组成的两位数有哪些? 其中最大的数是多少? 最小的数是多少?





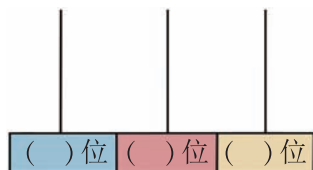


## 第八课时 练习二②



## 基础训练

## 1. 填一填, 画一画。



4个一和3个十表示的数是( ), 在计数器上画珠表示。

## 2. 猜一猜, 在你认为合适的答案下面画“○”。

(1)



大青蛙可能吃了多少只害虫?

13 只	22 只	56 只

(2)



黄花可能有多少朵?

78 朵	40 朵	82 朵

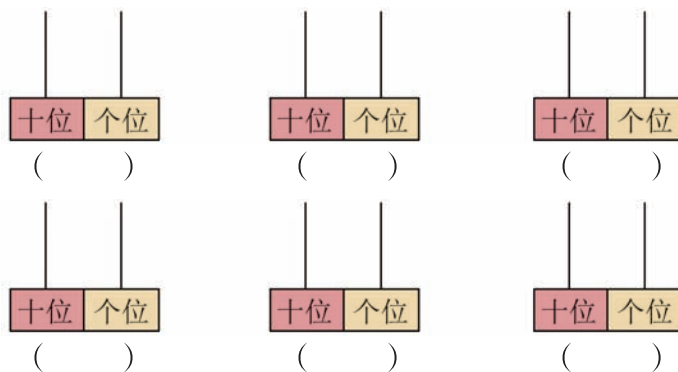
## 3. 按要求填一填。



- (1) 个位上是6的数有( )和( ), 十位上是6的数有( )和( )。
- (2) 比36少得多的数是( ), 比60多一些的数是( )。
- (3) 比60小的数有( )个, 比50大的数有( )个。
- (4) 最大的数是( ), 最小的数是( )。
- (5) 把这些数按从小到大的顺序排列:



## 4. 在计数器上拨五个珠子, 可以表示什么数? 画一画, 写一写。



## 拓展运用

## 5. 一(1)班大约有多少人? (画“√”)



一(1)班每人发一本, 这摞作业本剩下的不多。



48本

30人	45人	52人





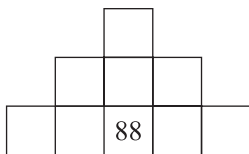
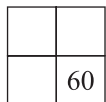
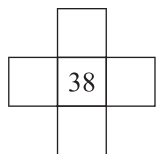
### 第三单元强化突破



#### 易错与巩固

#### 1. 填一填。

- 1个十和8个一是( ), 6个一和3个十是( )。
- 43是( )个十和( )个一, 87是( )个一和( )个十。
- 8个十是( ), 再添( )个一是100, 或再添( )个十是100。
- 86比78( ), 45比92( )。  
(填“多一些”“少一些”“多得多”或“少得多”)
- 在○里填上“>”“<”或“=”。  
89○98      99○9      100○10个十
- 最小的两位数是( ), 最大的两位数是( ), 最小的三位数是( )。
- 100在( )的后面, 89在( )的前面。
- 62的相邻数是( )和( ), 它前面的第三个数是( )。
- 根据百数表的规律填一填。



- 淘淘一个一个地数数, 从90数到100一共数了( )个数, 依依两个两个地数, 从90数到100一共数了( )个数。

#### 2. 找朋友。(连一连)

我的个位上是6, 十位上是3。



我的十位上是9, 个位和十位上的数字的和是9。



我的个位和十位上的数都是8。



我的十位比个位上的数多1, 个位上是8。



我再添1个十是100。



我再添2个一是100。



37是我后面的数。



我的相邻数是87和89。



#### 技巧与变式


#### 3. 写一写, 画一画。



25



32



( )



我发现: 1个○表示1个( ), 1个○表示1个( )。

我也能照样子画一画。



36



63



100








## 4. 写数。

- (1) 个位和十位上的数字相加得7的两位数。



- (2) 用  $\boxed{3}$ 、 $\boxed{7}$ 、 $\boxed{8}$  三个框中的两个摆成两位数, 你能写出多少个? 写一写。



## 生活与运用

## 5. 淘淘和龙一鸣收集矿泉水瓶。

我收集的与你差不多。



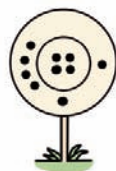
我收集了52个矿泉水瓶。

淘淘可能收集了多少个矿泉水瓶? (画“√”)


38 个	56 个	89 个

## 6. 投飞镖。


壮壮、淘淘和龙一鸣玩投飞镖游戏, 每人投了10只镖, 全部落到了圆盘上。每只镖投进小圆得10分, 投进小圆外得1分。



壮壮投的



淘淘投的



龙一鸣投的



我投了73分。

淘淘



我投了37分。

龙一鸣

- (1) 在◎中画“·”, 分别表示淘淘和龙一鸣的成绩。

- (2) 根据得分情况排一排。

第一名	第二名	第三名

- (3) 填一填。(填“多得多”“少得多”“多一些”或“少一些”)

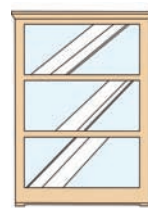
龙一鸣的得分比淘淘( );

壮壮的得分比龙一鸣( )。

7. 学校买来一批足球, 装进①号柜子装不下, 装进②号柜子装不满。




这批足球可能有多少个? (写出所有情况)



①

可以装36个



②

可以装42个




# 参考答案

## 一、加与减(一)

### 第一课时

- 3 2 3 3 3 10 10 7 3
- 圈一圈略 6 9
- (1)  $11-9=2$  (2)  $14-9=5$
- 4 6 9
- 7 2 8 4 5 5 8 1 9

### 第二课时


- 12 3 15 6
- 

- 7 10 6; 8 12 4 10
- 3 4 5 6 7 8 9 1
- (1)  $14-9=5$  (2)  $12-9=3$
- 1 1 1 1 1

### 第三课时

- (1) 6 4 6 6 6 (2) 4
- 5 3 5 (后两空从右往左填)
- 7 画图略
- 3 8 5 10 4 7 6 8 3 6 4 7
- (1)  $15-8=7$  (2)  $13-8=5$
- 9 8

### 第四课时

- 9 7 5 3; 4 6 8 10
- 
- 5 7 3 10 2 4 6 9 8
- $> < < > < =$
- $13-8=5$  6. 15 7

### 第五课时

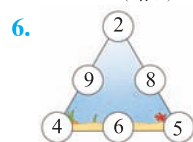
- 7 10 3; 8 10 5; 5 10 1; 7 10 4
- (1) 5 (2) 8 画图略
- 13 13 7;  $7+5=12$   $12-7=5$   
(最后一个算式答案不唯一)
- 7 8 6 3 7 8 5 6 4 7 (从下往

上、从左往右填)

- (1)  $15-6=9$   
(2) 依依还要背诵几首才能完成背诵任务?
- $15-6-1=8$ (个) 画图略

### 第六课时

- (1) ○○○○○ 5  
(2) △△△△△△△ 7
- (1) 略 (2)  $11-7=4$
- 6 6; 9 9; 8 8
- 4 6 7 8 8 5 5 6 9
- $13-8=5$ (根)



### 第七课时

- (1) 5  $12-7=5$  (2) 3  $12-9=3$   
(3) 16  $9+7=16$
- $15-6=9$ (朵) 黄霏霏画得多, 多9朵。
- (1)  $13-5=8$  ▲多, 多8个。  
(2)  $11-3=8$  ☆少, 少8个。
- (1)  $14-5=9$  (2)  $14-7=7$
- 淘淘剩下的多, 多2颗。  
提示: 淘淘剩下  $12-4=8$ (颗)  
苹苹剩下  $12-6=6$ (颗)  $8-6=2$ (颗)

### 第八课时


- 8 7 9 8 8 9 10 9 7
- 11 5 12; 6  $11-5=6$ ; 7  $12-5=7$
- 略 4. 4 3 4 8 6 7
- $11-5=6$ (个) 6.  $13-5=8$  剩下的多
- 3 画图略

### 第九课时

- (1) 8 7 15 11 4 (2)  $11-4=7$ (朵)  
(3) 15 一共有多少只鸟?
- $12-4=8$   $15-9=6$  3.  $15-8=7$ (本)
- (1) 淘淘比依依少写了多少个大字?  
(答案不唯一)  
(2) 淘淘还要写多少个大字?

- $14-5=9$ (个)  
依依还要写多少个大字?  
 $14-8=6$ (个)  
(答案不唯一)

### 第十课时


- 5 11 7 9 7 2 7 8 7 7 9  
5 6 6 9 10
- 
- 11  $11-5=6$   $11-6=5$ ;  
7  $15-7=8$   $15-8=7$ ;  
5 7  $12-5=7$   $12-7=5$   
(画线部分答案不唯一)
- 11 3  $11-3=8$ (个)
- 1 4 2 4 3 8;  
4 8 5 6 6 9 十

### 第十一课时

- $11-5=6$   $12-6=6$   $13-7=6$ ;  
 $11-4=7$   $12-5=7$   $13-6=7$   
(答案不唯一)
- $13-9=4$ (面)
- (1) 11 4 7 (2) 7  $11-4=7$   
(3) 18  $11+7=18$  (4) 略
- 略

2	9	4
7	5	3
6	1	8

### 第十二课时

- 略
- (1) 5 6 7 (2) 9 8 7 (3) 7 7 7  
(4) 7 8 9
-  4. 7 7 3 14 写式子略

### 第一单元强化突破

- 9 7 8 6
- 8 5 6 8 4 6 6 3 7 8
- × 改正:  $9+4=13$  × 改正:  $16-8=8$   
√ × 改正:  $12-5=7$   
× 改正:  $11-5=6$  √


- (1)  $7+9=16$   $9+7=16$   $16-9=7$   $16-7=9$ ;  
 $4+8=12$   $8+4=12$   $12-4=8$   $12-8=4$   
(2) 略
- 7 11; 5 3; 0 12; 16 4
- (1)  $11-5=6$  (2)  $15-7=8$
- 8 9 4 5 6 8 3 7
- $11-4$   $15-5$  9. 略
- (1) 13 7  $13-7=6$  (2)  $17-8=9$   
(3) ① 7 5 11 4  
②  $11-7=4$   
③ 海星比章鱼多几只? (答案不唯一)  
④ 略

## 二、观察物体




### 第一课时

- ②√ 2.a-② b-①
- 壮壮 淘淘 依依
- 7 8 8 4 7 8 5 9 9 5. 略

### 第二课时

-  2.
- 右 前 上 4. 略
- 4 5 6 3 1

### 第二单元强化突破

- 6 4 7 8 9 6 7 9 3
- (1) 圈第2个 (2) 圈第1个  
(3) 圈第1个 (4) 圈第2个
- ② ① 4. 依依 龙一鸣 淘淘
- 
6.   
(淘淘) (依依)
- (苹苹) (壮壮)
8.  9. ④ ③ ② ①

## 三、生活中的数

### 第一课时

- (1) 50 (2) 25 (3) 五 五 10  
(4) 十 十 5

2. 37  
3. 二十九 三十 三十一 三十二 三十三;  
五十 五十一 五十二 五十三 五十四;  
九十六 九十七 九十八 九十九 一百

4. 估一估、圈一圈略 45 5. 30 20

### 第二课时

1. (1) 9 4 94  
(2) 九十五 九十六 九十七 九十八  
九十九 一百

2. (1) 79 (2) 44 (3) 57 (4) 54

3. (1) 76 24 (2) 45 55

4. 27 28

### 第三课时

1. (1) 3 4 34 (2) 3 9 39

(3) 5 3 53 (4) 6 2 62

2. 51 38 45 70

3. (1) 个 十 百 (2) 88 90

(3) 58 2 (4) 7 3 (5) 6 7 70

4. 100 10 1 5. 49 33

### 第四课时

1. 

2.  $32 > 23$   $41 < 50$   $99 < 100$

3. 57 73 75 100

4. 小于60的数: 58 43 56 19 49

大于60的数: 62 70 81 66 100

5. 略

6. (1) 0, 1, 2, 3, 4, 5, 6, 7, 8, 9 (2) 0, 1, 2, 3, 4, 5

### 第五课时

1. 62只 20只 涂色略

2. (1) ① (2) ③ (3) ③

3. (1) 少得多 (2) 多得多 (3) 少一些  
(4) 多一些

4. ( ) (√) ( ) 5. 58

### 第六课时

1. 44 45 56 57 58 59 60 62 63  
64 65 71 72 76 77 78 79 83  
84 85 96 97 98 99 100 十个

2. (1) 77 80 81 82 83

(2) 100 90 70 50 30

(3) 70 64 62 58 56

3. 22 33; 54 63; 52 62 63 72 73

4. (1) 88 77 66 55 44 33 22 11

(2) 26 36 46 56 66 76 86 96

5. (1) 80 (2) 90 (3) 49 50 51

### 第七课时

1. 3 6 36; 2 6 26;

4 3 43; 4 2 42

2. 

3. 15 25 35 45 55;

30 31 32 33 34;

11 22 33 44 55 (答案不唯一)

4. 45 46 47 49 50 52 53 54 56

57 58 64 65 66 67 69 70 77  
78

5. 组成的两位数有 30, 60, 90, 36, 96,  
63, 93, 39, 69, 其中最大的数是 96,  
最小的数是 30。

### 第八课时

1. (从右往左) 个 十 百 34 画图略

2. (1) 56只 (2) 78朵

3. (1) 36 6 60 68 (2) 6 68

(3) 3 2 (4) 68 6

(5) 6 36 50 60 68

4. 14 23 32 41 50 5 画图略

5. 45人

### 第三单元强化突破

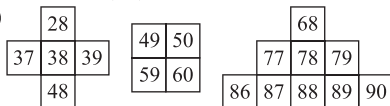
1. (1) 18 36 (2) 4 3 7 8

(3) 80 20 2 (4) 多一些 少得多

(5)  $<$   $>$   $=$  (6) 10 99 100

(7) 99 90 (8) 61 63 59

(9)



(10) 11 6

2.  3. 49 十 一 画图略

4. (1) 16 25 34 43 52 61 70

(2) 37 38 73 78 83 87

5. 56个

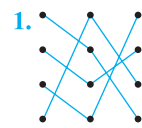
6. (1) 略 (2) 淘淘 壮壮 龙一鸣

(3) 少得多 多一些

7. 37个, 38个, 39个, 40个, 41个

### 四、有趣的图形

#### 第一课时

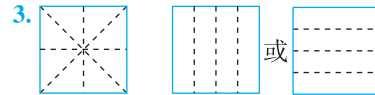


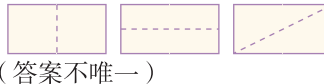
2. 4 3 4 2 6 3. (1)  (2) 

4. 略 5. 5 5 4

#### 第二课时

1.  2. 略



4. 略 5.   
(答案不唯一)

#### 第三课时

1. (1) 三 5 ① ② ④ ⑥

(2) 平行四边 正方 (3) 略

2. (1) ② ③ (2) ① ②

3. 略 4. 略 5. 略

#### 第四课时

1. 略 2. 略

3. 蜻蜓 5 长方 4 正方 2 三角 5 圆

4. 三角 三角 长方 正方

5. 略 6. 略 7. 6个 涂色略

### 第四单元强化突破

1. (1) 正方 长方 (2) 长方 正方 (3) 4

(4) 4 7 6 (5) ① ③ ⑤

(6) 4 4 4

2.  $\times$   $\checkmark$   $\times$

3. 略 4. (1)  (2) 圆 5. 略



7. 11 5 2 8

8. 小兔 (合理即可) 7 ③④⑤⑥⑦

正方 平行四边 平行四边

### 整理与复习

#### 第一课时

1. 11 7 4; 15 6 9 9 6; 8 12

2. 13 8 8 4 3 3 6 11 9

3.  $>$   $<$   $=$   $>$   $>$   $<$   $<$   $<$   $>$

4.  $15 - 6 = 9$   $5 + 7 = 12$

5. (1)  $12 - 9 = 3$  (个) (2)  $16 - 7 = 9$  (个)

6.  $12 - 6 = 6$  (答案不唯一)

#### 第二课时

1.  $14 - 8$   $14 - 7$   $16 - 8$



3. (1) 7 3 6 5 1 (2) 9

4. 画图略 30 21 12 3; 3 12 21 30

5. 

○	□	△
△	○	□
□	△	○

 (答案不唯一)

#### 第三课时

1. (1) 7 17 (2) 100 91 (3) 55 60 17

2. 

60分	45分	24分	39分
○			✓

3. (1) 10个 (2)  $11 - 9 = 2$  (个) (3) 略

4. 苹苹 依依 淘淘

### 五、加与减 (二)

#### 第一课时

1. (1)  $50 + 40 = 90$

(2)  $30 + 30 = 60$   $50 - 20 = 30$

(3)  $40 + 30 = 70$  (4)  $90 - 40 = 50$

2. (1) 80 加 80 (2) 20 90 70 20



- (3) 60 (4) 30  
 3. 80 60 40 10 70 90 70 70  
 90 20  
 4. (1) 40-20=20(个)  
 (2) 三人一共捡了多少个塑料瓶?

5. 40 80 40; 10 30 80  
**第二课时**

1. 55; 2 54; 31+4=35  
 2. 67 79 60 40 49 29 82 41  
 3. 27 59 36 48; 21 53 30 42  
 4. (1) 38-6=32(条)  
 (2) 大鱼比小鱼少多少条?  
 35-3=32(条)(答案不唯一)  
 5. 21+6+1=28(人)

**第三课时**

1. (1) 54 (2) 30 35  
 (3) 35 40 75 (4) 94-40=54  
 2. 73 55; 46 73; 63 18  
 3. (1) 56-40=16 (2)  $\sqrt{\quad}$   
 (3) 65+30=95 (4) 75-50=25  
 4. (1) 50+8=58(个) (2) 36-30=6(个)  
 5. 33-3=30 6. 34-10=24(岁)

**第四课时**

1. 24 56 68 25 43  
 2. 68 69 79 88 竖式略  
 3. 27+31=58(只) 4. 22+12=34(只)  
 5. 32+13=45(人) 6. 12+12=24(个)  
 7. 
$$\begin{array}{r} 4 \\ + 4 \\ \hline 8 \end{array}$$
 
$$\begin{array}{r} 3 \\ + 4 \\ \hline 7 \end{array}$$

**第五课时**

1. 40 73 64 45 62 6  
 2. (1) 68-32=36 (2) 25-12=13  
 3. 
$$\begin{array}{r} 63 \\ + 23 \\ \hline 86 \end{array}$$
 
$$\begin{array}{r} 32 \\ - 12 \\ \hline 20 \end{array}$$
 
$$\begin{array}{r} 68 \\ - 4 \\ \hline 64 \end{array}$$
  
 4. (1) 38-15=23(棵) (2) 38+41=79(棵)  
 5. 48+1=49(页)


**第六课时**

1. 36 39 15 26 64 51 65 39 88  
 18 28 17  
 2. (1)  $\square\square\square\square\square\square\square\square\square\square$  8+3=11  
 (2)  $\circ\square\square\square\square\square\square\square\square$  12-3=9  
 3. (1) 22+15=37(条) (2) 22-11=11(条)  
 4. 23+7=30(个) 56-30=26(个)

**第七课时**

1. 46 33 2 39 52 59 竖式略  
 2. (1) 25-11=14(人) (2) 12+15=27(人)  
 3. 略  
 4. 2 提示: 先求出多多少, 再拿出多的一半。


**第八课时**

1. 46 51 74 61  
 2. 59 69 43 33 99 55  
 3.   
 4. 28 15+13=28; 15 28-13=15  
 5. (1) 23+23=46(元) (2) 45-30=15(元)  
 (3) 48-23=25(把)  
 6. 
$$\begin{array}{r} 38 \\ - 34 \\ \hline 4 \end{array}$$
 
$$\begin{array}{r} 91 \\ + 3 \\ \hline 94 \end{array}$$
 
$$\begin{array}{r} 95 \\ - 33 \\ \hline 62 \end{array}$$
 (后两小题答案不唯一)

**第九课时**

1. 46 69 39 4 竖式略  
 2. < > < < > =  
 3. 
$$\begin{array}{r} 65 \\ - 32 \\ \hline 33 \end{array}$$
 
$$\begin{array}{r} 34 \\ + 12 \\ \hline 46 \end{array}$$
 
$$\begin{array}{r} 3 \\ + 52 \\ \hline 55 \end{array}$$
 
$$\begin{array}{r} 68 \\ - 62 \\ \hline 6 \end{array}$$
  
 4. 27+12=39(条) 27-15=12(条)  
 5. (1) 25-23=2(元) (2) 25+12=37(元)  
 (3) 略  
 6. 30+5 45-10; 40+6 58-12;  
 10+58 60+8 88-20 (答案不唯一)

**第五单元强化突破**

1. 75 25 55 47 44 8 85 40 49  
 2. 17 38 49 21 72 7 78 78  
 3. < > < < < = 4. 

5. 7+72 65-5 42+17 88-80

6. (1) 46+23=69(个)  
 (2) 46-23=23(个)



7. 略  
 8. (1) 36+3=39(分)  
 (2) ④号和⑤号  
 (3) ②号和③号  
 9. (1) 40+18=58(人) (2) 58-5=53(人)  
 (3) 58-52=6(人)

**数学好玩**

**第一课时**

1. (1) ②⑤⑦ ③⑥⑧ (2) ③④⑦  
 2. 方法一: ②⑤⑥ 方法二: ③⑤⑥  
 方法三: ②③ ④⑤  
 3. (1) 9 6 4 2 2 2  
 (2) 9-6=3(节) (3) 略

4. >  
**第二课时**

1. 

5	3	4
3	4	5
4	5	3

2. 

9	5	6	8	7
5	7	9	6	8
8	6	7	5	9
6	9	8	7	5
7	8	5	9	6

3. B是3。

3	4	1	2
4	3	2	1
1	2	4	3
2	1	3	4

4. 略 5. 55 61 76 85 90 93

**六、加与减(三)**

**第一课时**

1. 圈一圈略 52 32 2. 62 35 40 83  
 3. 41 85 60

4. 
$$\begin{array}{r} 37 \\ + 18 \\ \hline 45 \end{array}$$
 
$$\begin{array}{r} 18 \\ + 18 \\ \hline 26 \end{array}$$

5. 12+8=20(条) 6. 26+8+1=35(张)  
 7. 9+4+4=17(枚) 17+9=26(枚)

**第二课时**

1. (1)  $\circ\square\square\square\square\square\square\square\square\square\square\square\square$   
 11+5=16  
 (2) 画一画略 16+6=22  
 2. = < > >  
 3. (1) 8+15=23(人) (2) 23+8=31(人)  
 4. (1) 25+6=31(个) (2) 31+9=40(个)  
 5. 23+8=31(条) 23+31+1=55(条)

**第三课时**

1. 49 42; 29 39; 32 29; 21 23  
 2. 30 40; 53 73; 54 74; 42 62  
 3. 42 62 33 53 74 94 竖式略  
 4. 略 5. 26+16=42(人)  
 6. 二(1)班 一(2)班;  
 二(3)班 二(2)班;  
 一(1)班 一(3)班

**第四课时**

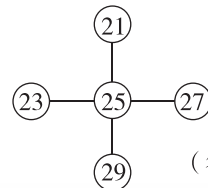
1. (1) 37+4=41 (2) 35+18=53  
 (3) 67+6=73  
 2. 
$$\begin{array}{r} 34 \\ + 27 \\ \hline 61 \end{array}$$
 
$$\begin{array}{r} 71 \\ + 18 \\ \hline 89 \end{array}$$
 
$$\begin{array}{r} 38 \\ + 2 \\ \hline 40 \end{array}$$

3. 60 57 80 8 竖式略  
 4. 47+36=83(个) 83>80 够。

5. 5 6 4

**第五课时**

1. 53 92 100 100 84 9 竖式略  
 2. (1) 略 (2) 25+27=52(元)  
 3. 55 40 60 40 52 46(答案不唯一)  
 4. 略 5.



(答案不唯一)

### 第六课时

1.  $44-7=37$ ; 7 7 37; 37 十; 37  
2. (按列) 4 24 44 64; 6 16 26  
36; 91 92 93 94

3. 29 33 55 95 竖式略

$$\begin{array}{r} 41 \\ - 3 \\ \hline 38 \end{array} \quad \begin{array}{r} 54 \\ - 6 \\ \hline 48 \end{array}$$

5.  $32-9=23$  (人)

6.  $27+6=33$   $33-9=24$

### 第七课时

1. 画一画略  $26-9=17$



3. 47 38 46 39 42;  
33 40 35 41 33

4. (1)  $40-8=32$  (元) (2)  $38-9=29$  (元)

5.  $66-8=58$

### 第八课时

1. (1) 38 42  $42-4=38$   
(2) 19 25  $25-6=19$

2. 30 16 41 45 27 54

3. 48 44

4.  $50-26=24$  (元)

5. (1) 32 (2)  $32-28=4$  (个)  
(3)  $40-32=8$  (个)

6. 2 2; 5 5; 3 3; 0 0

7.  $7+32=39$  (个)  $19+22=41$  (个)

这些茶杯能装下。

### 第九课时

1. 略 2. 62 33 竖式略

3. 26;  $50-24$   $72-46$   $100-74$   $63-37$   
 $45-19$

38;  $65-27$   $51-13$   $74-36$   $100-62$

4. 从右往左: 31 34 34 31; 33 59  
47 39; 20 64 31 50; 38 33  
95 88

5.  $100-46=54$

$$\begin{array}{r} 87 \\ - 59 \\ \hline 28 \end{array} \quad \begin{array}{r} 90 \\ - 26 \\ \hline 64 \end{array} \quad \begin{array}{r} 100 \\ - 95 \\ \hline 5 \end{array}$$

(第三个竖式答案不唯一)

### 第十课时

1. 37 9 81 48 44 90 竖式略

2.  $42-18=24$   $45+25=70$   $100-48=52$

$$\begin{array}{r} 42 \\ - 18 \\ \hline 24 \end{array} \quad \begin{array}{r} 45 \\ + 25 \\ \hline 70 \end{array} \quad \begin{array}{r} 100 \\ - 48 \\ \hline 52 \end{array}$$

3. 37 92 27

4. (1)  $40-6=34$  (岁) (2)  $40-11=29$  (岁)

5. 43 29 69

### 第十一课时

1. = < > < 2. 略

3. (1)  $60-15=45$  (个) (2)  $45-9=36$  (个)



5. 从下往上: 20 53 100

### 第六单元强化突破

1. 19 57; 71 19; 38 50; 5 95

2. 略

3. > < > > = <

4. 9 34 76 76 12 18

5. (1)  $36+6$   $99-66$   $40-13$

(2)  $90-18$   $42+8$   $100-92$

6. 略

$$\begin{array}{r} 35 \\ + 37 \\ \hline 72 \end{array} \quad \begin{array}{r} 70 \\ - 13 \\ \hline 57 \end{array} \quad \begin{array}{r} 26 \\ + 64 \\ \hline 90 \end{array}$$

8.  $50-16=34$  (只)

9. 提示:  $19+36=55$  (元) 圈3月份。

10. (1)  $18+28=46$  (份)  
(2)  $36-28=8$  (份) (3) 略

### 总复习

#### 第一课时

1. 68 70 71; 75 70 65

2. 2 5 25; 5 6; 7 3; 3 7 37

3. (1) 95分 94分 88分 78分 65分

(2) 2 2 良好

(3) 依依 苹苹 淘淘

(4) 少一些 多一些

4. 个位是6的数: 16 36 66 26

十位是6的数: 66 65 60

5. 32 40 48 64; 72 45 36 27

#### 第二课时

1. 从下往上: 30 61 56 97 58 54

65; 81 15 20 73 32 30 53

2. 38 46 28; 44 61 57; 26 39 51

3. > > = <

4. 95 64 90 46 55 8 竖式略

5. (1)  $31-9=22$  (元) (2)  $50-9=41$  (元)

(3)  $68+31=99$  (元)  $99 < 100$  够。

6. 8; 4 9

#### 第三课时

1. 35 55 44 46 45 45

(1) 略 (2) 略

2. (1) 2 (2) 4

3. (1)  $18+17=35$  (本) (2)  $50-35=15$  (本)

4. 略 5. 30 提示:  $34-3-1=30$  (个)

#### 第四课时

1. (1)  $36+15=51$  (条)

(2)  $90-51=39$  (条) (3) 略

2. (1) 小猫 企鹅 (2) 小象 企鹅

(3) 小象 企鹅 (或小象 小猫; 或小象 鹅) (答案不唯一)

3. (1) 一 四 二 三 (2) 56 22 34

(3) 16 (4) 12 (5) 略

4. 33

#### 第五课时

1. 2. × √ √

3. (1) 7 6 4 7 (2) 15 30

(3) 正方 三角 圆 (4) 5

4. (1) 5 4 (2) 5 4 5. 略

6. 平行四边 三角 画图略

### 总复习综合训练

1. (1) 38 39 41; 80 75 65 60

(2)  $71 < 80$   $56 < 65$

(3) 长方 三角 圆

(4) 5 9 (5) 62 22

2. 39 63 75 59 50 56 29 80

64 96 42 72

3. 57 6 47 竖式略



5. 8 1 5 6; 2 3 1 4

6. 78条 7.  $62-26=36$  (只)

8. (1)  $68-30=38$  (人)

(2)  $30-9=21$  (人)

(3)  $68-49=19$  (人)

9. 略

### 期末易错题大闯关

1. (1) 21 44 62 43 画图略

(2) 21 43 44 62

(3) 21 62 44

(4) 62 21 43 44



3. 3 1 3 11

4. 81 49 43 53 7 10 竖式略

5.  $42-6=36$  (人)

6.  $36+4=40$  (位)  $40-38=2$  (个)  
不够, 还差2个。

7. ① ③ (或② ⑤)

① ② (或④ ⑥)

8. (1)  $32-9=23$  (个) (2)  $32-7=25$  (个)

9. (1)  $24-16=8$  (本) (2) 略

10. (1)  $45-18=27$  (元)

(2)  $6+45=51$  (元)  $51 > 50$  不够。

(3) 略





1. 开学必备



3. 升学复习



关注龙门书局公众号  
内含小程序，购书优惠又便利



2. 期末复习



4. 假期学习

语 文		数 学			英 语				
	R		R	BS		BJ	RP	WY	JK
一年级 (上、下)		一年级 (上、下)		★	一年级 (上、下)				
二年级 (上、下)		二年级 (上、下)			二年级 (上、下)				
三年级 (上、下)		三年级 (上、下)			三年级 (上、下)				
四年级 (上、下)		四年级 (上、下)			四年级 (上、下)				
五年级 (上、下)		五年级 (上、下)			五年级 (上、下)				
六年级 (上、下)		六年级 (上、下)			六年级 (上、下)				

同步作业类

BS



# 黄冈小状元 达标卷

主编 万志勇

单元检测卷 (8卷)

分类专项复习 (8卷含易错题卷)

期中期末检测卷 (共4卷)

## 一年级数学 下

### 最新修订

ISBN 978-7-5088-3938-7 06 >



9 787508 839387

定 价：26.80 元



龍門書局

龙门品牌·学子至爱  
www.longmenshuju.com





学校

班级

考号

姓名

密

封


线

### 第三单元达标卷

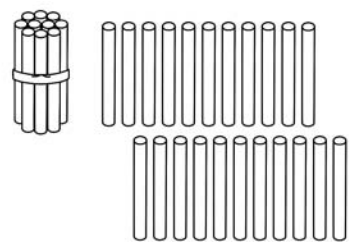
建议时间:40分 满分:100分+10分

#### 一、按要求数一数。(8分)

##### 1. 圈一圈,数一数。(4分)




有( )个苹果



有( )根小棒

##### 2. 看谁数得又对又快!(4分)



有( )只,有( )只。

#### 二、看图计数。(12分)

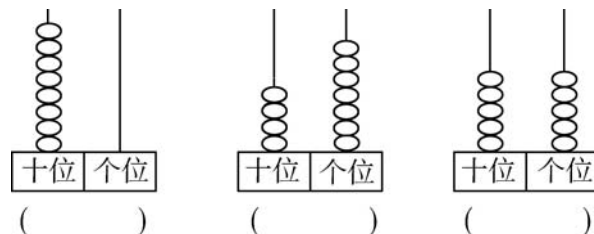
 ( )个十和( )个一 是( )。	 ( )个十和( )个一 是( )。
 ( )个十和( )个一 是( )。	 ( )个十和( )个一 是( )。

#### 三、填一填。(14分)

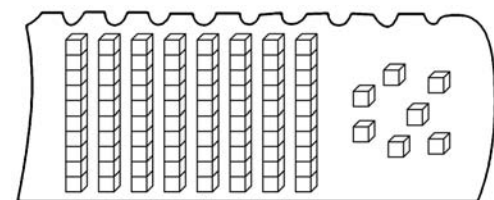
##### 1. 写门牌号码。(6分)



##### 2. 写数。(3分)



##### 3. 数一数,再添( )个□就变成100个了。(2分)



##### 4. (3分)

$16 < \square$        $\square > 79$        $\square < 40$

#### 四、填一填,涂一涂。(25分)

				5	6				
			14			17			
		23					28		
		32						39	
41									50
51									60
		62							69
			73					78	
				84			87		
					95	96			

##### 1. 按顺序在空格里填数。(6分)

##### 2. 把个位上是“5”的数涂上绿色。(2分)

##### 3. 把个位和十位上的数相同的涂上黄色。(3分)

4. 在第( )号;在第( )号;在第( )号;在第( )号。(4分)

##### 5. 根据百数表填一填。(8分)

37	38	
	48	
		59

	21	
30		32
	41	

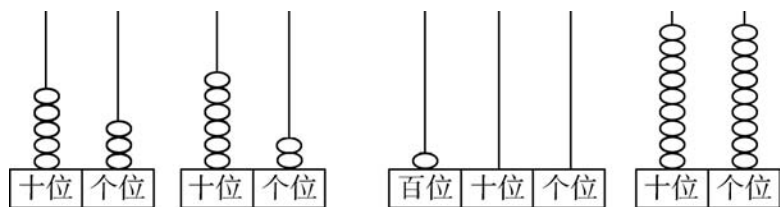
64		
	75	
		86

##### 6. 比77大,比82小的数是( )。(2分)



五、比大小。(18分)

1. (4分)



○

○

2. 按要求选出合适的数。(9分)

72, 55, 100, 13,  
95, 62, 87, 45,  
7, 69



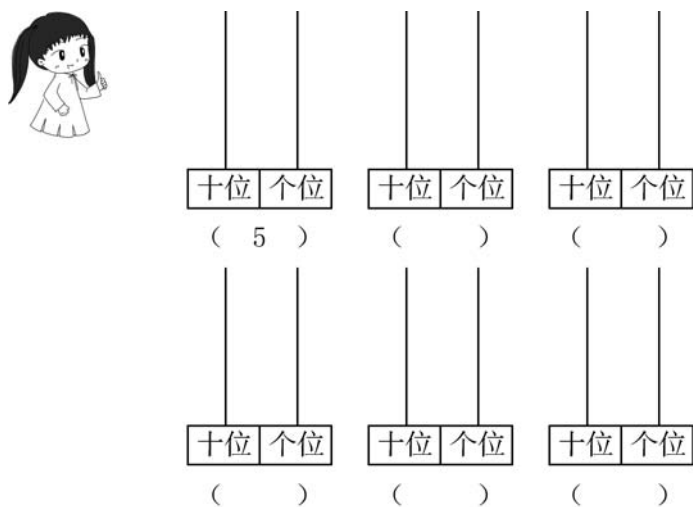
3. 哪种动物数量最多?(画“○”)



哪种动物数量最少?(画“√”)(5分)

六、在计数器上拨五颗珠子,可以表示什么数?画一画,写一写。

(5分)



七、在你认为合适的答案下面画一画。(18分)

1. 用☾表示10,用☆表示1。哪组图形比40多?在□里画“√”。(4分)

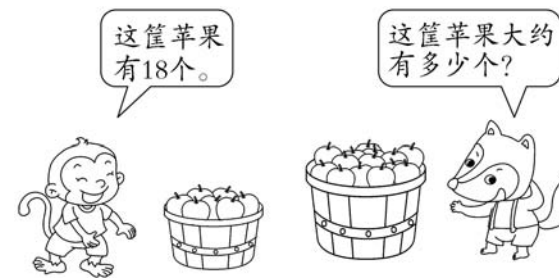


2. 小红可能拍了多少下?(画“○”)(4分)



95下	39下	10下
<input type="checkbox"/>	<input type="checkbox"/>	<input type="checkbox"/>

3. (5分)



在你认为合适的答案下面画“√”。

20个	34个	80个
<input type="checkbox"/>	<input type="checkbox"/>	<input type="checkbox"/>

4. (5分)



可能采集了多少只蝴蝶标本?(画“○”)

38只	46只	43只
<input type="checkbox"/>	<input type="checkbox"/>	<input type="checkbox"/>

附加题。(10分)

用3、8、7三张卡片中的任意两张组成两位数。



最大的数是多少?

最小的数是多少?



密

封

线





# 参考答案

## 第一单元达标卷

- 一、圈一圈略 1. 8 2. 6 3. 5  
 二、画一画略 1. 9 2. 3  
 三、(从下到上)5 7 6 7 7 8; 4 9 7 8 6 9;  
 10 8 9 5 9 7  
 四、1. 10 4 9 5 7 3 7 8 + 5 9 + 4 7 +  
 8 6 + 9 (波浪线处答案不唯一)  
 2. 14 14 8 6;  
 4+7=11 7+4=11 11-4=7 11-7=4  
 五、1. 16-7=9  
 2. 9+5=14 14-9=5 (答案不唯一)  
 3. 15-8=7  
 4. 11-4=7  
 六、1. 12-7=5  
 2. 11-9=2  
 3. 11-5=6 大宝钓得多,多6条。  
 4. 14-8=6  
 5. (1)4 11 8 (2)7 11-4=7  
 (3)3 草莓比桃多几个?(或桃比草莓少几个?)  
 (4)12 8+4=12  
 6. (1)9+7=16 (2)16-9=7  
 (3)提问:兔妈妈比兔弟弟多采了多少个蘑菇?  
 16-7=9(个) (答案不唯一)

### 附加题

14-7-1=6(人)

## 第二单元达标卷

- 一、7 4 8 13; 5 14 9 6; 12 7 16 8  
 二、1. 第三幅图 2. 第三幅图  
 三、1. 2.   
 3. 4.   
 5.

- 四、1. 第二幅图 2. 第二幅图  
 五、第三幅图画“√” 第二幅图画“○”  
 六、③ ① ②  
 七、1. 第一幅图 2. 第三幅图  
 八、正面 背面 左面



### 附加题

1. 2 2. 4 3. 6

## 第三单元达标卷

- 一、1. 圈一圈略 33 32 2. 25 25  
 二、3 9 39; 4 3 43; 5 1 51; 5 6 56  
 三、1. 40 41 44; 71 69 68  
 2. 80 47 55  
 3. 13  
 4. 17 80 39 (答案均不唯一)  
 四、1. 略 2. 略 3. 略 4. 44 26 76 58  
 5. 39 47 49 57 58; 20 22 31 40 42;  
 65 66 74 76 84 85  
 6. 78, 79, 80, 81  
 五、1. 53<62 100>99  
 2. 比80大的数: 100 95 87  
 个位上是5的数: 55 95 45  
 比60小的两位数: 55 13 45  
 3. (从左到右)     
 六、画图略 14 41 23 32 50  
 七、1. 第一组和第三组画“√”  
 2. 39下 3. 34个 4. 38只

### 附加题

最大的数是87,最小的数是37。

## 第四单元达标卷

- 一、长方形: ④⑦ 正方形: ⑤⑧ 三角形: ①③⑩ 圆: ②⑨  
 二、  
 三、火车 ④⑤⑥⑦ ②③ ①  
 四、第三个 第一个 第二个 第一个和第三个  
 五、1. 3 3 1 2 2. 3 3 2  
 六、1. 略 2. 3. 略  
 七、(竖向)14 4 5 11 8; 11 7 6  
 八、略  
 九、①—⑥ ②—⑧ ③—⑤ ④—⑦ ①—④ ⑥—⑦  
 十、1. (1)① ② ④ ⑥ ⑦ (2)正方  
 (3)① ② ④ ⑥ (4)3  
 2. ⑥ ⑤ ⑧ ⑦

### 附加题

- 3 9 5 5

## 期中检测卷

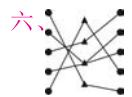
- 一、1. 100 52 100 2. ② 5 ⑤ ⑥  
 3. 48 50 4. 十 8 一  
 5. 36 26 (答案不唯一) 6. < > = < > >  
 7. 72 32 8. 4 2 3 2 9. 10. 15 16 24 26 34 35; 44 53 54 55  
 63 65; 78 80 88 89 98 100  
 二、1. 4 14 7 8 8 12 8 12 7 6

2. (竖向)13 8 5; 12 3 9 9 3; 11 9 9

### 附加题



- 三、略  
 四、  
 五、十位是6的数: 65 62 67 68  
 大于50的数: 83 56 76 65 62 67 68  
 个位是6的数: 56 76  
 小于50的数: 49 14 28



- 六、1. 12-8=4  
 2. (1)9 4 11  
 (2)11-4=7  
 (3)2 鹅比小鸟多多少只?(或小鸟比鹅少多少只?)  
 (4)略  
 3. (1)9+4=13 (2)12-7=5 (3)13-7=6  
 4. (1)9人画“○” 20人画“△” (2)略

### 附加题

(按从上到下,再从左到右的顺序填) 9 6 7; 7 5 0

## 第五单元达标卷(一)

- 一、(横向)57 80 27 58 88 33 64 61 40 59 90 20  
 二、1. 加 和 2. 21 3. 89 4. 32 30 62 32  
 5. 13+41=54 65-44=21 56-23=33  
 6. 
$$\begin{array}{r} 54 \\ +42 \\ \hline 96 \end{array}$$
 
$$\begin{array}{r} 23 \\ +44 \\ \hline 67 \end{array}$$
 
$$\begin{array}{r} 88 \\ -34 \\ \hline 54 \end{array}$$
 (最后一题答案不唯一)  
 三、20+60=80 90-50=40 33+30=63 96-40=56  
 四、1. > < < > = <  
 2. 56 41 23 63 74 23<41<49<56<63<74  
 五、  
 六、86 44 81; 49 56 79 竖式略  
 七、4+55=59 77-11=66  

$$\begin{array}{r} 4 \\ +55 \\ \hline 59 \end{array}$$
 
$$\begin{array}{r} 77 \\ -11 \\ \hline 66 \end{array}$$

- 八、画图略 1. 7+8=15 2. 12-5=7

- 九、1. 39-8=31  
 2. 23+23=46  
 3. (1)12+36=48 (2)36-12=24  
 4. 43+5=48  
 5. 48-33=15  
 6. (1)26+23=49 (2)58-30=28 (3)略

### 附加题

35+1=36(人)

## 第五单元达标卷(二)

- 一、34 63 25; 80 48 48; 41 99 24; 39 46 47  
 二、22+50=72 44-30=14  
 三、

- 四、48 48; 77 77; 49 49  
 52+6=58 6+52=58; 8+60=68 60+8=68  
 (答案不唯一)

- 五、96 89 69 66 54 41 竖式略  
 六、38 32 35 85; 47 17 12 72  
 七、颜色 形状  
 八、1. 54-3=51

2. 27-6=21  
 3. (1)49+30=79 (2)49-15=34  
 4. (1)24+13=37 (2)37-15=22  
 5. (1)35+42=77  
 (2)答案不唯一,如买①和④,应付:35+52=87(元)  
 或买②和⑤,应付:41+42=83(元)  
 6. (1)55-31=24 (2)23+34=57  
 (3)55-26=29(下)或56-26=30(下)

### 附加题

3	4	2	1
4	3	1	2
2	1	4	3
1	2	3	4

## 第六单元达标卷(一)

- 一、圈一圈略 1. 31 2. 33  
 二、86 19 72; 66 26 50 36; 33 86 77;  
 25 30 45; 61 100 78  
 三、1. 十位 2. 40 40 38 38  
 3. 十 10 4. 34 5. 81 39  
 6. 相同数位 个  
 四、< = < < > >  
 五、84 27 43 18 45 43 竖式略  
 六、  
 七、1. 97 88 80 2. 16 41 28  
 3. 28 9 26 4. 45 29 42  
 八、(1)班和(3)班或(2)班和(5)班。  
 九、1. 100-22=78 2. 23-2-1=20(人) 3. 28+13=41  
 4. (1)100-25=75 (2)75+8=83 5. 50-23=27  
 6. 27+43=70(人) 30+40=70(人) 39+31=70(人)  
 二(1)班和一(2)班; 二(3)班和二(2)班; 一(1)班和一(3)班

### 附加题

15+27=42(元)

## 第六单元达标卷(二)

- 一、(从下到上)45 44 50 40 41 42;  
 25 15 53 8 40 71  
 二、28+3=31 78+14=92 70-28=42 73+17=90  

$$\begin{array}{r} 28 \\ +3 \\ \hline 31 \end{array}$$
 
$$\begin{array}{r} 78 \\ +14 \\ \hline 92 \end{array}$$
 
$$\begin{array}{r} 70 \\ -28 \\ \hline 42 \end{array}$$
 
$$\begin{array}{r} 73 \\ +17 \\ \hline 90 \end{array}$$
  
 三、48 77 47 39 90 81 竖式略



BS

同步专题类

黄冈小状元

主编 万志勇

口算速算

练习册



一年级数学 下

最新修订

班级: \_\_\_\_\_

姓名: \_\_\_\_\_



龍門書局 | 龙门品牌·学子至爱

www.longmenshuju.com

黄冈小状元  
口算速算练习册

一年级数学  
下

龙门书局



### 三、生活中的数

#### 数花生 数一数

接着往后数。

17 18 19 \_\_\_\_\_

31 32 33 \_\_\_\_\_

46 47 48 \_\_\_\_\_

67 68 69 \_\_\_\_\_

70 71 72 \_\_\_\_\_

86 88 90 \_\_\_\_\_

27 28 29 \_\_\_\_\_

70 75 80 \_\_\_\_\_

56 57 58 \_\_\_\_\_

96 97 98 \_\_\_\_\_

20 30 40 \_\_\_\_\_

80 70 60 \_\_\_\_\_

60 70 80 \_\_\_\_\_

52 62 72 \_\_\_\_\_

5 10 15 \_\_\_\_\_

47 49 51 \_\_\_\_\_

2 4 6 8 \_\_\_\_\_

20 18 16 \_\_\_\_\_

38 40 42 \_\_\_\_\_

86 87 88 \_\_\_\_\_

55 60 65 \_\_\_\_\_

53 55 57 \_\_\_\_\_

20 40 60 \_\_\_\_\_

35 40 45 \_\_\_\_\_

11 13 15 \_\_\_\_\_

79 77 75 \_\_\_\_\_

35 37 39 \_\_\_\_\_

25 35 45 \_\_\_\_\_

42 44 46 \_\_\_\_\_

42 52 62 \_\_\_\_\_



记一记

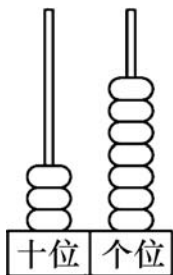
用时 \_\_\_\_\_ 分 \_\_\_\_\_ 秒，答对 \_\_\_\_\_ 题。



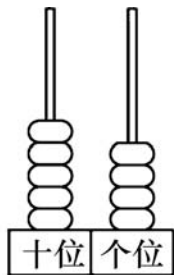


## 数豆子

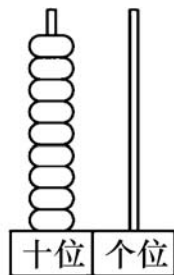
1. 看图写数。



(      )



(      )



(      )

2. 算一算。

$8+5=$

$12-4=$

$17-3=$

$6+9=$

$13-8=$

$19-7=$

$9+4=$

$11-3=$

$18-3=$

$6+5=$

$13-7=$

$15-3=$

$9+5=$

$11-4=$

$19-6=$

$6+7=$

$16-8=$

$18-4=$

$8+4=$

$14-5=$

$12+4=$

$3+9=$

$11-7=$

$15+3=$

$8+7=$

$12-9=$

$13+6=$

$6+8=$

$15-9=$

$14+2=$



记一记

用时 \_\_\_\_\_ 分 \_\_\_\_\_ 秒，答对 \_\_\_\_\_ 题。

读数、写数均从高位起，十位上是几读作几十，个位上是“0”不要读出来。几十就在十位上写几，几个就在个位上写几，一个也没有就写“0”占位。

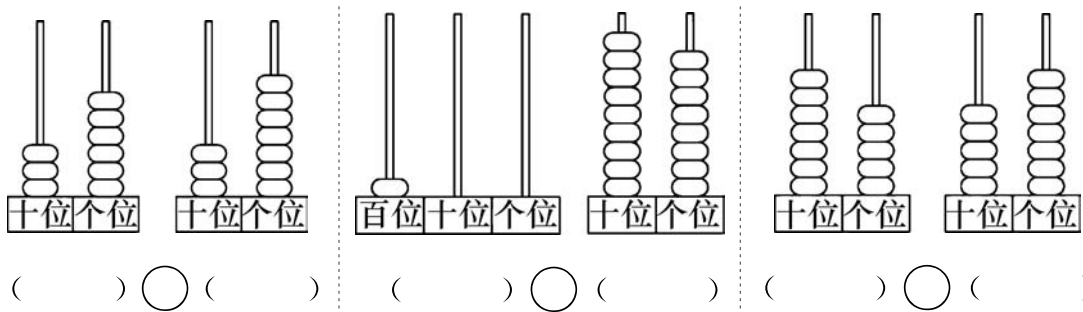
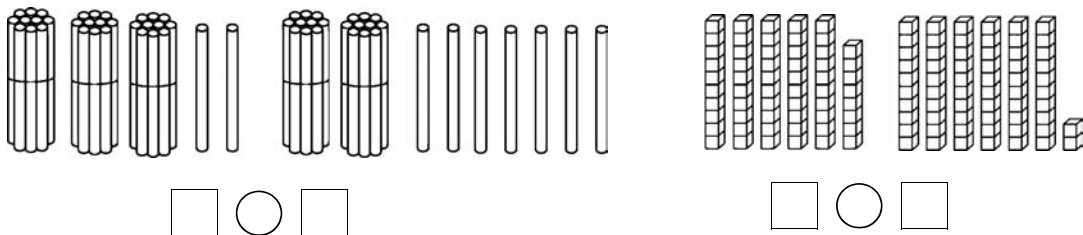
日积月累





谁的红果多 小小养殖场

1. 填一填,比一比。



2. 在○里填上“>”“<”或“=”。

41 ○ 46

74 ○ 67

57 ○ 57

69 ○ 68

86 ○ 96

89 ○ 98

33 ○ 34

40 ○ 60

24 ○ 42

55 ○ 57

38 ○ 58

54 ○ 45

75 ○ 73

69 ○ 89

73 ○ 69

96 ○ 96

77 ○ 66

63 ○ 48

81 ○ 18

35 ○ 35

80 ○ 79



用时 \_\_\_\_\_ 分 \_\_\_\_\_ 秒, 答对 \_\_\_\_\_ 题。





## 做个百数表

1. 看一看,填一填。



2. 根据百数表,想一想,填一填。

14	15	16
	25	26
		36

48		50
68		70

	45	

42	43	
	53	
		64

	71	
80		82
	91	

	89	

15		
	26	
		37

1		3
	12	
		23

	67	

77		
	88	
		99

	19	
28		30

	24	



记一记

用时 \_\_\_\_\_ 分 \_\_\_\_\_ 秒, 答对 \_\_\_\_\_ 题。

同一个数字在不同的数位上表示的意义不同,在十位上的数表示几个十,在个位上的数表示几个一。

日积月累



## 练习二

1. 接着往后数。

34 36 38 \_\_\_\_\_

96 97 98 \_\_\_\_\_

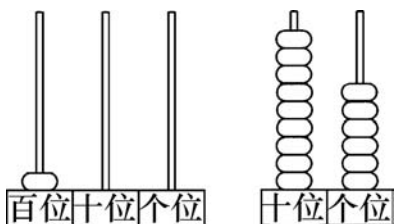
65 70 75 \_\_\_\_\_

80 85 90 \_\_\_\_\_

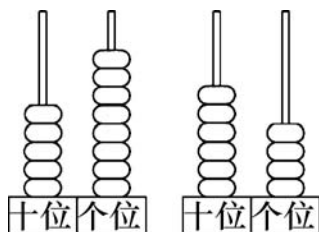
40 50 60 \_\_\_\_\_

60 70 80 \_\_\_\_\_

2. 比一比。



( ) ○ ( )



( ) ○ ( )

49 ○ 62

36 ○ 63

9 ○ 42

77 ○ 86

69 ○ 56

74 ○ 100

56 ○ 53

76 ○ 59

81 ○ 28

78 ○ 69

48 ○ 54

55 ○ 39

21 ○ 40

90 ○ 79

44 ○ 52

47 ○ 72

53 ○ 35

66 ○ 55

28 ○ 32

92 ○ 83

74 ○ 49

86 ○ 78

65 ○ 56

57 ○ 61



用时 \_\_\_\_\_ 分 \_\_\_\_\_ 秒, 答对 \_\_\_\_\_ 题。





## 四、有趣的图形

### 认识图形 动手做(一)

$11-2=$

$9+5=$

$17-9=$

$11-6=$

$8+3=$

$19-7=$

$15-8=$

$4+8=$

$12-4=$

$12-6=$

$13+5=$

$14-2=$

$18-9=$

$12+3=$

$16-8=$

$12-8=$

$13-5=$

$18-6=$

$15-9=$

$8+5=$

$17+2=$

$11-4=$

$14-7=$

$12+7=$

$13-4=$

$16-2=$

$13-9=$

$15-7=$

$15-6=$

$19-3=$

$11-5=$

$18-8=$

$16-9=$

$11-3=$

$6+6=$

$19-6=$

$14-5=$

$16-3=$

$16-4=$

$16-5=$

$19-9=$

$14-3=$

$11-7=$

$7+7=$

$12-9=$



记一记

用时 \_\_\_\_\_ 分 \_\_\_\_\_ 秒, 答对 \_\_\_\_\_ 题。

正方形的4条边都相等,长方形有2条长边,2条短边。

日积月累





动手做(二) 动手做(三)

1. 算一算。

$17-9=$

$12-8=$

$9+6=$

$20-1=$

$16-7=$

$12+5=$

$11-4=$

$13-5=$

$12-3=$

$18-7=$

$14-5=$

$10+6=$

$19-4=$

$5+7=$

$13-8=$

2. 填一填。

$16 > \square$

$\square < 72$

$98 > \square$

$45 > \square$

$\square < 84$

$60 > \square$

$70 > \square$

$32 > \square$

$\square < 90$

$\square < 100$

$77 > \square$

$86 > \square$

$\square < 22$

$33 > \square$

$49 > \square$

3. 最大能填几?

$16 > \square$

$\square < 72$

$98 > \square$

$45 > \square$

$\square < 84$

$60 > \square$

$70 > \square$

$32 > \square$

$\square < 90$

$\square < 100$

$77 > \square$

$86 > \square$

$\square < 22$

$33 > \square$

$49 > \square$



记一记

用时 \_\_\_\_\_ 分 \_\_\_\_\_ 秒, 答对 \_\_\_\_\_ 题。





## 第二、三、四单元口算能力测试

$12-6=$

$8+9=$

$91 \bigcirc 48$

$7+7=$

$14-6=$

$36 \bigcirc 29$

$13-5=$

$6+6=$

$66 \bigcirc 59$

$16-7=$

$12-5=$

$73 \bigcirc 37$

$11-5=$

$13-7=$

$86 \bigcirc 100$

$12-3=$

$19-5=$

$43 \bigcirc 43$

$8+8=$

$11-3=$

$97 \bigcirc 99$

$15-7=$

$14-7=$

$63 \bigcirc 36$

$6+9=$

$16-9=$

$52 \bigcirc 73$

$11-4=$

$15-8=$

$86 \bigcirc 86$

$12-9=$

$18-4=$

$61 \bigcirc 46$

$13-8=$

$7+8=$

$76 \bigcirc 82$

$17-4=$

$14-5=$

$53 \bigcirc 35$

$13-3=$

$12-8=$

$61 \bigcirc 49$

$18-9=$

$12-4=$

$100 \bigcirc 99$



记一记

用时 \_\_\_\_\_ 分 \_\_\_\_\_ 秒，答对 \_\_\_\_\_ 题。

在计数器上，十位上有几个珠子，就在十位写几，若个位上没有珠子，写数时，个位上要用“0”占位。

日积月累





(2) 10 9 8 7 6  
5 4

(3) 9 9 9 9 9 9  
9

2. 9 6 7  
9 6 7  
9 6 7  
9 6 7  
9 6 7  
9 6 7

第 18 页

7 4 6  
19 9 8  
8 13 9  
15 5 6  
7 13 8  
17 10 13  
14 7 9  
9 9 5  
19 10 12  
5 5 7  
7 17 10  
12 6 3  
16 4 3  
8 6 9  
2 12 13

第 19 页

9 9 2  
7 6 4  
9 4 8  
8 7 17  
8 9 14  
6 5 12

9 3 12  
7 8 11  
9 6 12  
7 9 13  
6 7 16  
8 3 13  
5 5 16  
8 9 12  
4 11 17

第 20 页

20 21 34 35  
49 50 70 71  
73 74 92 94  
30 31 85 90  
59 60 99 100  
50 60 50 40  
90 100 82 92  
20 25 53 55  
10 12 14 12  
44 46 89 90  
70 75 59 61  
80 100 50 55  
17 19 73 71  
41 43 55 65  
48 50 72 82

第 21 页

1. 37 54 90  
2. 13 8 14  
15 5 12  
13 8 15  
11 6 12  
14 7 13  
13 8 14

12 9 16  
12 4 18  
15 3 19  
14 6 16

第 22 页

1.  $32 > 27$   $58 < 62$   
 $36 < 37$   $100 > 98$   
 $75 > 57$

2.  $<$   $>$   $=$   
 $>$   $<$   $<$   
 $<$   $<$   $<$   
 $<$   $<$   $>$   
 $>$   $<$   $>$   
 $=$   $>$   $>$   
 $>$   $=$   $>$

第 23 页

1. 46 48 50 98 99 100  
35 55 60 50 80 90 100  
2. 24 34 35  
49 58 59 60 69  
34 35 36 44 46  
54 55 56  
44 52 54 62 63  
70 72 81 90 92  
78 79 80 88 90  
98 99 100  
16 17 25 27 35  
36  
2 11 13 21 22  
56 57 58 66 68  
76 77 78  
78 79 87 89 97  
98

8 9 10 18 20 29  
13 14 15 23 25  
33 34 35

第 24 页

1. 40 42 99 100  
80 85 95 100  
70 80 90 100  
2.  $100 > 96$   $58 < 64$

$<$   $<$   $<$   
 $<$   $>$   $<$   
 $>$   $>$   $>$   
 $>$   $<$   $>$   
 $<$   $>$   $<$   
 $<$   $>$   $>$   
 $<$   $>$   $>$   
 $>$   $>$   $<$

第 25 页

9 14 8  
5 11 12  
7 12 8  
6 18 12  
9 15 8  
4 8 12  
6 13 19  
7 7 19  
9 14 4  
8 9 16  
6 10 7  
8 12 13  
9 13 12  
11 10 11  
4 14 3



第 26 页

1. 8 2. 14 3. 15
- 4 70 71
- 15 1 97
- 19 2 44
- 9 3 83
- 17 10 59
- 7 20 69
- 8 0 31
- 9 40 89
- 11 0 99
- 9 4 76
- 16 5 85
- 15 10 21
- 12 4 32
- 5 10 48

(第 2 题答案不唯一)

第 27 页

- 6 17 >
- 14 8 >
- 8 12 >
- 9 7 >
- 6 6 <
- 9 14 =
- 16 8 <
- 8 7 >
- 15 7 <
- 7 7 =
- 3 14 >
- 5 15 <
- 13 9 >
- 10 4 >
- 9 8 >

第 28 页

1. 7 9 9
- 13 11 11
- 6 7 13
- 14 13 7
- 7 9 8
- 13 11 12
- 9 6 8
- 11 14 12
- 13 18 18
2. < > <
- < > <
- > < >
- = > >
- > < >
- < > =

第 29 页

- 12 16 13
- 8 16-9=7 13-6=7
- 4 16-7=9 13-7=6
- 12 13 11
- 7 13-5=8 11-2=9
- 5 13-8=5 11-9=2
- 15 13 11
- 6 9 13-4=9 11-6=5
- 9 6 13-9=4 11-5=6
- 12 15 11
- 3 9 15-8=7 11-7=4
- 9 3 15-7=8 11-4=7
- 14 16 18
- 7 7 16-8=8 18-9=9

第 30 页

- 7 5 >

- 15 3 <
- 6 3 <
- 4 12 =
- 13 9 <
- 13 13 <
- 8 4 >
- 4 14 >
- 8 7 <
- 5 8 <
- 12 7 >
- 13 9 >
- 8 6 =
- 10 6 >
- 9 9 >

第 31 页

1. 70 7 70
- 30 3 30
2. 9 70 90
- 90 50 60
- 9 90 80
- 90 80 10
- 8 80 60
- 80 50 40
- 2 70 50
- 20 40 20
- 6 40 80
- 60 20 40

第 32 页

- 9 2 9
- 90 20 90
- 6 5 2
- 60 50 20
- 8 0 1

- 80 0 10
- 8 1 9
- 80 10 90
- 7 1 90
- 70 10 30
- 9 0 90
- 90 0 30
- 9 2 20
- 90 20 90
- 90 40 0

第 33 页

- 50 60 90
- 60 20 70
- 90 90 0
- 0 30 60
- 20 50 60
- 70 80 10
- 20 90 80
- 30 0 0
- 70 40 20
- 40 90 50
- 80 80 0
- 10 90 90
- 60 90 70
- 90 20 20
- 80 10 10

第 34 页

1. 37 37 32 32
2. 9 4 90
- 39 94 78
- 6 0 34
- 66 60 51
- 6 5 28