

期末考点过关小测验(九)

易错与变式

时间:30分钟

满分:60分

数与代数

tián yì tián quān yì quān

一、填一填，圈一圈。(每空1分，共16分)

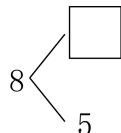
1.  ()个十和()个一合起来是()。

2. 15 里面有()个一和()个十,它前一个数是(),后一个数是()。

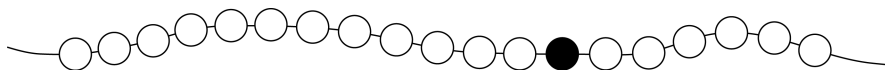
3. 在 里填上合适的数。(3分)

$7 + \square = 16$

$\square > 18$



4.



(1)上面一共有()个珠子。

(2)从右边数,●是第()个;从左边数,●是第()个。

(3)把右边的8个珠子圈起来。

5. 小朋友们排队玩游戏,淘淘排第10,壮壮排第15,淘淘和壮壮之间有()人。

6. 壮壮早上7:00起床,比妈妈晚1小时起床,妈妈的起床时间是()。

xuǎn yì xuǎn jiāng zhèng què dá àn de xù hào tián zài kuò hào lǐ


二、选一选。(将正确答案的序号填在括号里)(6分)


1. 下周五到下周日放假,共放()假。

①1天

②3天

③4天

2. 观察下图,  的位置可能是()。



①11

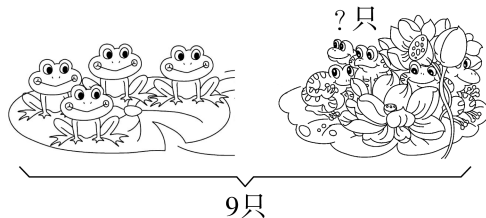
②15

③19

kàn tú liè shì jì suàn

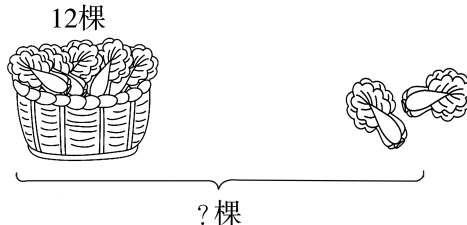
三、看图列式计算。(8分)

1.



$\square \bigcirc \square = \square \text{ (只)}$

2.




$\square \bigcirc \square = \square \text{ (棵)}$



jiě jué wèn tí

四、解决问题。(17分)

1. 原来有多少个苹果?(5分)

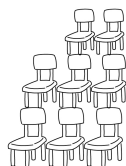


送给了奶奶9个苹果, 还剩……



$$\square \bigcirc \square = \square \text{ (个)}$$

2. 一共有19人, 每人1把椅子, 还需要多少把椅子?(6分)



$$\square \bigcirc \square = \square \text{ (把)}$$


3. 图书角原来有9本故事书, 借走了3本后, 又买回9本, 图书角现在有多少本故事书?(6分)

$$\square \bigcirc \square \bigcirc \square = \square \text{ (本)}$$


图形与几何

xuǎn yi xuǎn jiāng zhèng què dá àn de xù hào tián zài kuò hào lǐ

五、选一选。(将正确答案的序号填在括号里)(9分)

1.  左图有()个长方体。

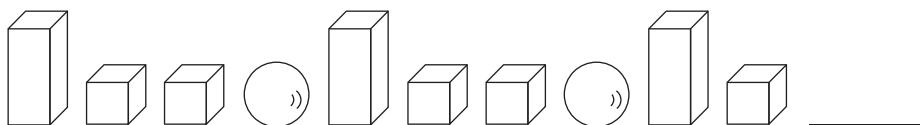
- ①4 ②5 ③6

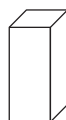


2. 右图至少再添上()个  就能拼成一个大正方体。



- ①1 ②2 ③3


3. 接着该摆()。



- ①  ②  ③ 

zài xiǎo péng yǒu de zuǒ biān xiě yòu biān xiě shàng miàn xiě xià miàn xiě

六、在小朋友的左边写“4”, 右边写“8”, 上面写“5”, 下面写“7”。(4分)



期末考点过关小测验(十)

生活与运用

时间:30分钟

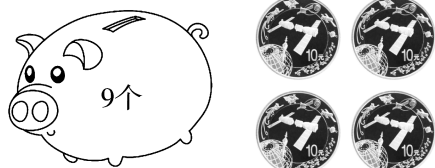
满分:60分

数与代数

jiě jué wèn tí

一、解决问题。(第8小题9分,其余每小题5分,共44分)

1.



一共有多少个中国航天普通纪念币?

$$\square \bigcirc \square = \square \text{ (个)}$$

3.

我拍的和你同样多。

我拍了8下。




她们一共拍了多少下?

$$\square \bigcirc \square = \square \text{ (下)}$$

5. 张老师要给15人发红花,每人

发1朵,还需要多少朵红花?



$$\square \bigcirc \square = \square \text{ (朵)}$$

2.



一共有10人登山,苹苹后面有几人?

$$\square \bigcirc \square = \square \text{ (人)}$$

4.

我们班借走了8本科技书。

还剩下9本科技书。



一共有多少本科技书?

$$\square \bigcirc \square = \square \text{ (本)}$$

6.



依依和欢欢之间有几人?

$$\square \bigcirc \square = \square \text{ (个)}$$

7. 淘淘可能放进多少个苹果?



我将一些苹果放进下面的盒子里,每格放一个,刚好装满两盒。

淘淘





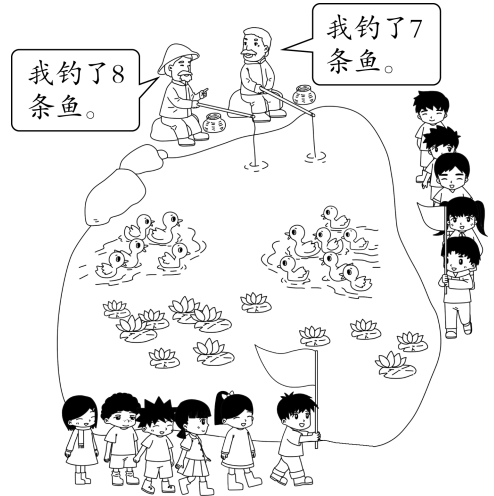
8. (1) 一共钓了多少条鱼?

○ = (条)

(2) 一共有多少个小朋友?




○ = (个)

(3) 提一个数学问题并解答。



lóng yī míng yī yī hé táo táo sān rén fàng xué hòu yòng tóng yàng de sù dù huí jiā cāi yī cāi shuí jiā lí xué xiào zuì jìn zài lǐ huà "√"。(4分)

二、龙一鸣、依依和淘淘三人放学后用同样的速度回家,猜一猜,谁家离学校最近?在 里画“√”。(4分)




钟表上的时间是他们各自到家的时间哟!



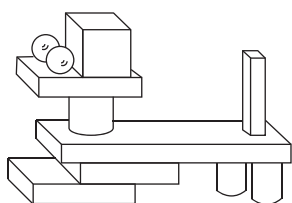
图形与几何

zhǎo wèi zhì
三、找位置。(4分)



1. 黑板在同学们的()面。
2. 小兵在小月的()面。
3. 小月在小生的()边。
4. 小马在小兵的()边。

shǔ yì shǔ tián yì tián
四、数一数,填一填。(8分)



	() 个
	() 个
	() 个
	() 个

期末考点过关小测验(十一)

前沿真题

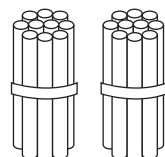
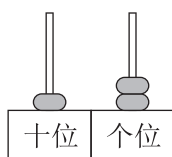

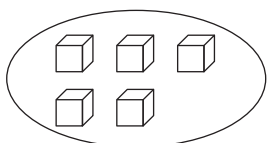
时间:30分钟

满分:60分

tián yì tián quān yì quān tú yì tú

一、填一填,圈一圈,涂一涂。(第7小题3分,其余每空1分,共22分)

1. 看图写数。



2. 9 () 11 12 () ()

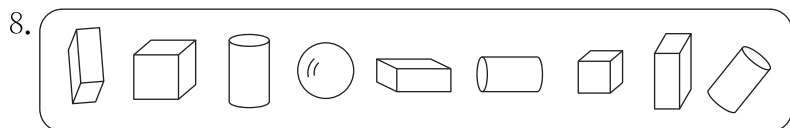
3. 15 读作:(),它里面有()个十和()个一。

4. 4个一和1个十组成的数是()。

5. 16 前面一个数是(),10 后面一个数是()。

6. 学校原定于星期二开冬季运动会,由于天气原因,推迟2天再开。推迟后,运动会在星期()开。

7. $7+7 = \square + \square = \square + \square = \square + \square$



(1) 正方体有()个,长方体有()个,圆柱有()个。

(2) 从左边数,球排在第()。

(3) 把右边的5个立体图形圈起来。

biàn yì biàn duì de huà cuò de huà

二、辨一辨。(对的画“√”,错的画“×”)(4分)

1. 6个小正方体可以拼成1个大正方体。 ()

2. 分针指向12,时针指向5,是5时。 ()

3. 星期一的前一天是星期日。 ()

4. 苹苹今天读一本故事书,她从第10页读到第17页,她今天读了6页。 ()

suàn yì suàn

三、算一算。(9分)

$4+6=$ $10-5=$ $3+5=$ $17-0=$ $5+5+5=$

$9-6=$ $10-6=$ $19-10=$ $2+8=$ $6+9-5=$

$8+4=$ $6+6=$ $0+15=$ $18+2=$ $10-1+8=$



zài lǐ tián shàng huò
四、在 ○ 里填上 “>” “<” 或 “=”。(6分)

$15 \bigcirc 12$

$6+3 \bigcirc 9$

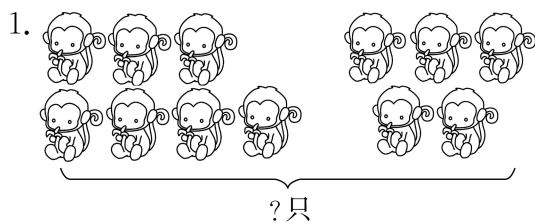
$11+2 \bigcirc 13$

$9+8 \bigcirc 16$

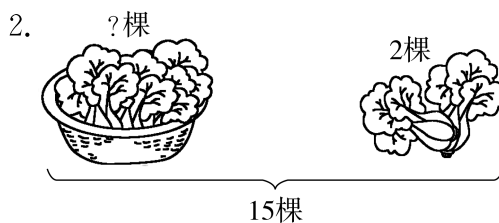
$18-8 \bigcirc 18$

$6+9 \bigcirc 13$

kàn tú liè shì jì suàn
五、看图列式计算。(6分)

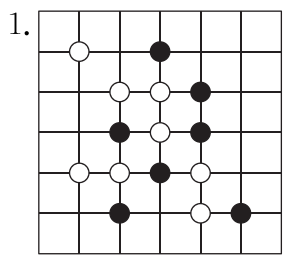


$\square \bigcirc \square = \square \text{ (只)}$



$\square \bigcirc \square = \square \text{ (棵)}$

jiě jué wèn tí
六、解决问题。(13分)



棋盘(qí pán)上有(yǒu) \square 颗(kē)黑(hēi)

棋子,有 \square 颗白棋子,一共有多少颗棋子?(4分)


$\square \bigcirc \square = \square \text{ (颗)}$



要来 18 人,每人一个杯(bēi)子,还需要多少个杯子?(4分)

$\square \bigcirc \square = \square \text{ (个)}$

3. 车上原来有 10 人,下车 2 人,上车 3 人。现在有多少人?(5分)



$\square \bigcirc \square \bigcirc \square = \square \text{ (人)}$