

期末考点过关小测验(九)

易错与变式

时间:30 分钟

满分:60 分

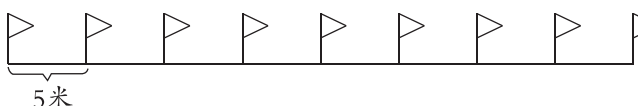
[数与代数]

一、填一填。(共 13 分)

1. 学生尺上,从刻度“2”到刻度“8”是()厘米,从刻度“3”到刻度“()”是 4 厘米。
2. 比 72 多 19 的数是(),50 比()少 12。
3. 时针从 6 走到 9,走了()时,分针从 4 走到 7,走了()分。
4. 6 个人植树,小花、小华、小明、小松、小张每人植了 9 棵,小牛植了 10 棵,一共植了()棵树。
5. 元旦到了,3 个好朋友互赠贺卡,一共要送()张贺卡。
6. ()里最大能填几?
 $() \times 6 < 27$ $() < 3 \times 7$ $4 \times () < 30$
7. 小猴锯木头,把一根木头锯成 2 段需要 5 分钟,把一根木头锯成 4 段需要()分钟。


二、选一选。(将正确答案的序号填在括号里)(共 6 分)

1. 求 6 个 4 相加的和是多少。下面列式正确的是()。
 ① $6+4$ ② $6+6+6+6$ ③ 4×6
2. 下面的算式中,()与 $40-(26+8)$ 的计算结果相等。
 ① $40-26+8$ ② $40+8-26$ ③ $40-26-8$

3.  全长共()。

- ① 40 厘米 ② 45 米 ③ 40 米

三、一共有多少人?(共 6 分)



$$() \times () + () = () \text{ (人)} \quad () \times () - () = () \text{ (人)}$$

四、写出相应的时间,画出缺少的分针。(共 10 分)




() 时 () 时 () 分 () 时 () 分

五、解决问题。(共 13 分)

1. 王师傅运来 30 个车轮,先组装了 4 辆自行车,剩下的组装 7 辆三轮车,够吗?(7 分)




自行车



三轮车

2. (6 分)



学校乒乓球队有女生 26 人,男生比女生多 12 人。乒乓球队一共有多少人?



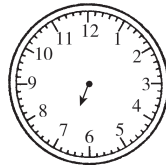
[图形与几何]

六、画一画。(共 6 分)

1. 已知直角的顶点和一条边,画出另一条边。



2. 画出钟面上 6:40 时的分针。



七、下面右边的三幅图分别是谁看到的? 请你连一连。(6 分)



小冬



小明



小青

期末考点过关小测验(十)

生活与运用

时间:30分钟

满分:60分

[数与代数]

一、选一选。(将正确答案的序号填在括号里)(共12分)

1. 元旦到了,学校门口挂了3排气球,每排6个。一共挂了多少个气球? 这道题是求()。

①3与6的和

②6个3的积

③3个6的和

2. 苹苹有3件不同的上衣和2条不同的裤子。每次穿1件上衣和1条裤子。一共有()种不同的穿法。

①5

②6

③9

3. 壮壮、依依和苹苹一起练大字,每人写了5个,他们一共写了多少个大字? 下面列式正确的是()。

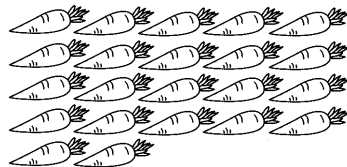
① $3+5$ ② 2×5 ③ 3×5

4. 明明过生日,兰兰送给他66颗幸运星,兰兰比华华多送了34颗,华华送了多少颗幸运星? 下面列式正确的是()。

① $66+34$ ② $66-34$ ③ $66-34+66$


二、解决问题。(共18分)

1. 有3只小灰兔和20只小白兔,每只兔子吃1根胡萝卜,这些胡萝卜够吗?(5分)



2.

原来有92位客人。




走了27位,又来了15位。

现在有多少位客人?(5分)

3. 淘淘的活动时间表

时间	9:00~9:40	10:10~10:35	10:55~11:25	13:00~14:10
活动	做作业	骑车	打篮球	睡午觉

把时间和相应的活动连起来。(8分)



做作业

骑车

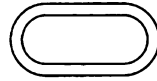
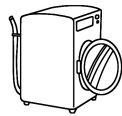
打篮球

睡午觉

[几何与图形]

三、填一填。(共12分)

1. 在括号里填上“厘米”或“米”。



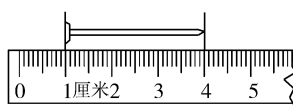
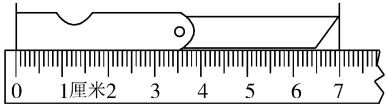
食指长约5()

洗衣机高约1()

跑道长约400()

文具盒长约25()





2.



小刀长()厘米

钉子长()厘米

四、他们分别看到什么图形？连一连。(9分)




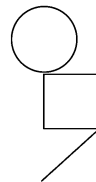
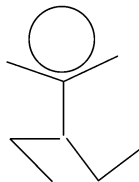
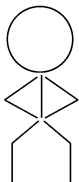

依依

淘淘

壮壮

五、壮壮用学过的角和图形的知识设计了一幅图案，并取了一个名字。从这幅图案中你能找到哪些角呢？数一数。(9分)

快乐大课间



锐角有()个,直角有()个,钝角有()个。

期末考点过关小测验(十一)

前沿真题

时间:30分钟

满分:60分

一、填一填。(共16分)

1. 一根跳绳长2(),爸爸比壮壮高34()。

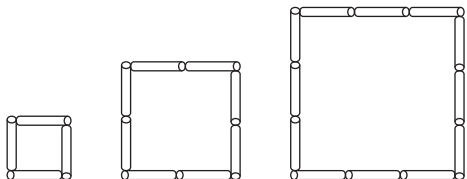
2. 3个9的和是(),3与9的和是()。

3. $17+()=50$ $()-38=54$ $72-()=43$ $()+15=42$

4. ()厘米 ()厘米



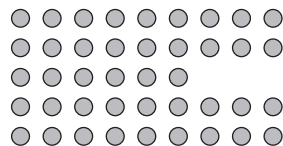
5.



照这样继续摆下去,第5个图形有()根小棒,第8个图形有()根小棒。

6. 比63多37的数是(),比92少25的数是()。

7. 二(1)班同学们排队,排出像右面这样一个队形。要求二(1)班一共有多少位同学,正确的列式是()或()。



二、选一选。(将正确答案的序号填在括号里)(共18分)




1. 从2、4、8三个数中任选两个数,可以组成()个不同的两位数。

①3


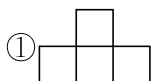
②4

③6

2. 小动物们进行跑步比赛,它们都是2:40出发的,下面是它们的冲线时间。()是第一名。



3. A  从位置A看到的是()。



4. 与 $4 \times 7 + 6$ 得数相同的算式是()。

① $5 \times 7 + 1$

② $5 \times 7 - 2$

③ $5 \times 7 - 1$



5. 从 7:25 到 7:40, 分针要走()个大格。

①3

②4

③5

6. 数糖果。小丽 2 个 2 个地数, 数了 7 次, 还剩 1 个, 小文 3 个 3 个地数, 数了 5 次正好数完。一共有()个糖果。


①28

②15

③45

三、画一画。(共 8 分)

1. 画一条比下面线段短 2 厘米的线段。




2. 画一个开口向左的直角。

四、解决生活中的问题。(共 18 分)

1. 在口语比赛中, 青青得了 86 分, 明明比青青多得了 7 分, 笑笑比明明少得了 18 分。明明得了多少分? 笑笑得了多少分? (5 分)

2. 购物。(8 分)



(1) 买 5 个  和 1 条 , 50 元钱够吗? (4 分)

(2) 你还能提出其他数学问题并解答吗? (4 分)

问题: _____

解答: _____

3. 淘淘有 60 元钱, 他想买一顶帽子和一条围巾, 一共有多少种买法? 分别需要多少钱? (5 分)

