

同步作业类

黄冈小状元

主编 万志勇

寒假作业

二年级数学



龍門書局 | 龙门品牌·学子至爱

www.longmenshuju.com



黄冈小状元 寒假作业

二年级数学

主 编 万志勇

本册主编 蔡正香 刘亮芳 周 琴 龙仲华

编 者 艾欣梅 胡云芳 罗 红 彭小红 童伶俐 刘 敏 王小燕

吴小兰 张红英 陈天平 傅友香 史 方 王玉桂

龍 門 書 局

北 京

编委会

主 编 万志勇

主要编委 陈 冰 陈凤梅 陈建新 陈莲香 陈 明 陈小英 丰景玉 丰俊杰 高中咏 胡金英 胡可珍 胡少平 廖卫华
刘辉进 龙 杰 龙仲华 邱 娟 邵耀煌 舒红艳 唐幼林 万金玉 万俊江 万又勇 汪姣菊 汪来华 王贵红
王先香 王先知 王旭光 王 滢 叶红先 叶华先 叶慧宏 叶期阶 叶 全 叶泳辰 张 龙 张文涛 张迎春
张玉波 赵 晶



寒假注意事项

期末考试方结束，长假转眼即来临。
师尊教导记心上，注意事项要牢记。
路面结冰易摔滑，出门小心需谨慎。
冰上游戏缭花眼，场所规范是关键。
烟花绽放虽美丽，燃放安全最重要。
新年走亲又访友，待人接物有礼貌。
阖家欢乐庆团圆，平安喜乐过大年。

目 录

玩开心游戏 做快乐作业	(1)
快乐作业 1	(2)
快乐作业 2	(4)
快乐作业 3	(6)
快乐作业 4	(8)
快乐作业 5	(10)
综合作业 1	(12)
快乐作业 6	(14)
快乐作业 7	(16)
我们学校的运动会	(18)
快乐作业 8	(20)
快乐作业 9	(22)
快乐作业 10	(24)
综合作业 2	(26)
快乐作业 11	(28)
快乐作业 12	(30)
快乐作业 13	(32)

快乐作业 14	(34)
愉快的春节	(36)
快乐作业 15	(38)
综合作业 3	(40)
快乐作业 16	(42)
快乐作业 17	(44)
快乐作业 18	(46)
快乐作业 19	(48)
快乐作业 20	(50)
综合作业 4	(52)
弱项强化 1	(54)
弱项强化 2	(56)
弱项强化 3	(58)
弱项强化 4	(60)
升级衔接	(62)
参考答案	(65)



报数游戏



今天，我们来玩一个跟数字“6”有关的游戏。

游戏规则：

1. 大家围成一个圆，依次轮流、快速地报数，但是遇到含有“6”的数就要跳过不报，整数与“6”相乘的积也不能报，各数位上的数字之和等于“6”的数也不能报。

2. 如果报错了，就要表演节目。



游戏开始！

第一轮：



游戏继续！



第二轮：



停！壮壮该表演节目了。



报数不能停，慢了算犯规！



玩开心游戏 做快乐作业

1. 为什么壮壮在第二轮游戏时要表演节目?

2. 第二轮游戏时,依依应该报什么数才能不表演节目?

3. 想一想,20 以内哪些数不能报?

4. 如果前一位同学报的数是 59,下一位同学应该报几?

5. 下列数中,哪些数可以报? 请圈出来。

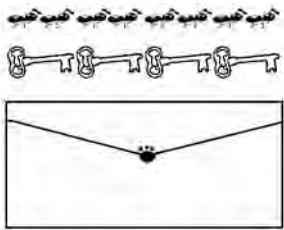
12	13	14	15	16	17	18	19	20
21	22	23	24	25	26	27	28	29
30	31	32	33	34	35	36	37	38
39	40	41	42	43	44	45	46	47



快乐作业 1

基础练功房

1. 考考你的眼力。



大约有 () 个 长;
 大约有 () 个 长;
 大约有 () 个 长。

由于所选的参照物不同，所以测量的结果也不同。



2. 我会填。

- (1) 测量铅笔的长度一般用 () 作单位，测量学校篮球场的长度一般用 () 作单位。
- (2) 弟弟现在的身高是 90 厘米，再长 () 厘米，他的身高就是 1 米了。
- (3) 在 ○ 里填上 “>” “<” 或 “=”。

40 厘米 ○ 4 米 100 厘米 ○ 1 米
 30 厘米 ○ 1 米 - 80 厘米 3 米 ○ 32 厘米

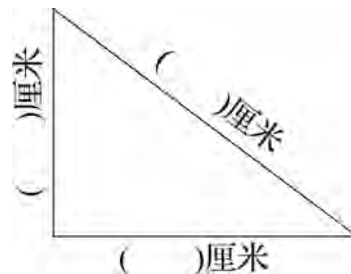
3. 比一比，估一估，在合适的答案后面画“√”。



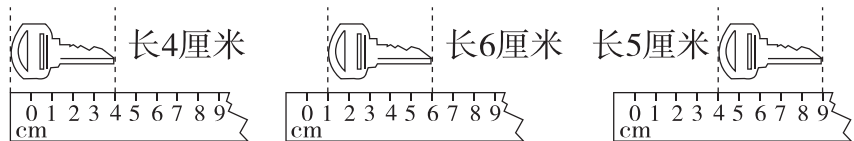
桌子高:

- 8 厘米
 80 厘米
 8 米

4. 量一量，填一填。






5. 谁量得对？对的画“√”，错的画“×”。



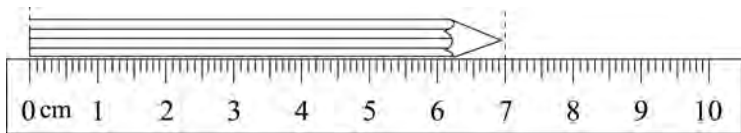
() () ()

6. 圈出合适的答案。

	铅笔	书桌	黑板
			
估计	比 10 厘米 长 短	比 1 米 长 短	比 1 米 宽 窄
测量	比 10 厘米 长 短	比 1 米 长 短	比 1 米 宽 窄

能力展示台

7. 一支铅笔长 20 厘米,用了一段时间后,还剩图中这么长,用去了多少厘米?



快乐阅读吧



人身上的“尺子”

你知道吗? 我们每个人身上都携带着几把“尺子”。假如你“一拃”的长度约为 8 厘米,量一下你课桌的长为 7 拃,则可知课桌长约为 56 厘米。如果你每步长约 45 厘米,你去上学时,数一数你走了多少步,就能算出从你家到学校大约有多远。身高也是一把“尺子”。如果你的身高是 150 厘米,那么你抱住一棵大树,两手正好合拢,这棵树树干的周长大约是 150 厘米,因为每个人两臂平伸,两手指尖之间的距离和身高大约是一样的。如果你想量树的高,影子也可以帮助你,你只要量一量树的影子和自己影子的长度就可以了。学会用你身上这几把“尺子”,对你计算一些问题是很有好处的。另外,在日常生活中,它们也会为你提供方便。

先估一估,再量一量,并把测量的结果填在括号里。



你的“一拃”长约()厘米



你的一步长约()厘米



你的大拇指指甲宽约()厘米



你的脚掌长约()厘米



快乐作业 2

基础练功房

1. 算一算, 填一填。

$$\begin{array}{r} 34 \\ + 59 \\ \hline \square \square \end{array}$$

笔算时, 相同数位(), 从()位加起, 个位上的数相加满(), 要向()位进1。



$$\begin{array}{r} 80 \\ - 37 \\ \hline \square \square \end{array}$$

笔算时, 要把相同数位(), 并从()位减起, 如果个位不够减, 就从()位退1当10。



2. 看谁算得都对。

$$36 - 25 =$$

$$9 + 67 =$$

$$41 - 19 =$$

$$27 + 43 =$$

$$48 - 9 =$$

$$8 + 72 =$$

3. 下面的计算对吗? 把不对的改过来。

$$\begin{array}{r} 80 \\ - 16 \\ \hline 74 \end{array}$$

()

改正:

$$\begin{array}{r} 48 \\ + 37 \\ \hline 75 \end{array}$$

()

改正:

4. 后面躲着几?

$$\begin{array}{r} 58 \\ - 19 \\ \hline \text{花} 9 \end{array}$$

$$\begin{array}{r} 46 \\ + 27 \\ \hline \text{花} 3 \end{array}$$

$$\begin{array}{r} 52 \\ - 37 \\ \hline \text{花} 5 \end{array}$$

5. 里应该填几?

$38 + 52 = \square 0$ $56 + 23 = \square 9$ $28 + 49 = \square 7$

$8 + 59 = \square 7$ $38 + 6 = \square 4$ $40 + 29 = \square 9$

6. 依依和壮壮的绘画作品在网上参加评比,他们两人的作品一共获得了多少个赞?



依依

我获得了47个赞。



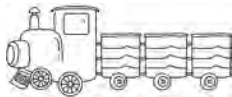
壮壮

我获得了28个赞。

7. 买玩具。



25元



38元



19元



32元

(1) 依依有70元,可以买哪几样玩具?

(2) 龙一鸣买了一辆玩具火车,付给售货员100元,应找回多少元?

(3) 你还能提出其他数学问题并解答吗?

能力展示台。

8. 每个算式中的汉字各表示数字几?

$$\begin{array}{r} (1) \quad \text{快} \ 3 \\ + \ 4 \ \text{乐} \\ \hline \end{array}$$

$$\begin{array}{r} \ 6 \ 1 \end{array}$$

$\text{快} = (\quad)$

$\text{乐} = (\quad)$

$$(2) \quad \begin{array}{r} 4 \ \text{聪} \\ - \ \text{明} \ 6 \\ \hline \end{array}$$

$$\begin{array}{r} \ 1 \ 9 \end{array}$$

$\text{聪} = (\quad)$

$\text{明} = (\quad)$

快乐阅读吧。

进位加法儿歌

进位加法我会算,数位对齐才能加。
个位对齐个位加,满十要向十位进。
十位相加再加一,得数算得快又准。

退位减法儿歌

退位减法并不难,数位对齐才能减。
个位数小不够减,要向十位借个一。
十位退一是一十,退了以后少个一。
十位数字怎么减,十位退一再减。



快乐作业 3

基础练功房

1. 笔算对了,给自己画一朵花。

$47+35=$

$90-31=$

$18+49=$



$82-45=$

$29+36=$

$100-24=$



2. 比一比,算一算,你发现了什么? 请再写一组这样的算式。

$36+18=$

$29+56=$

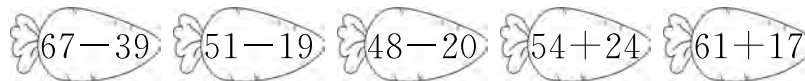
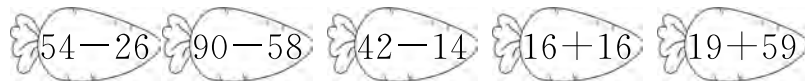
$18+36=$

$56+29=$



我发现:交换两个加数的位置,和()。

3. 小兔吃萝卜。(连一连)



4. 拍球游戏。

	第一局	第二局
黄霏霏	56下	37下
龙一鸣	42下	56下

(1) 第一局黄霏霏比龙一鸣多拍了多少下?

(2) 第二局黄霏霏比龙一鸣少拍了多少下?

综合练习室

5.



姓名	苹苹	壮壮	依依	龙一鸣
跳的个数	50	35	48	43

(1) 壮壮和依依一共跳了多少个?

(2) 苹苹比壮壮多跳了多少个?

(3) 你能再提出一个数学问题并解答吗?

6. 每个球优惠 8 元, 买一个篮球和一个足球分别要花多少元?



7. 公共汽车上有 35 个座位, 有 46 位乘客, 如果每人一个座位, 有多少人没有座位?



8.

	28 元
	35 元
	42 元

(1) 一件上衣比一条裙子便宜多少元?

(2) 一条裤子比一条裙子贵多少元?

能力展示台

9. 观察下面算式的规律, 请照样子再写 2 个。

$$\begin{array}{r}
 1 \quad 8 \quad \quad 2 \quad 7 \quad \quad \square \quad \square \quad \quad \square \quad \square \\
 + \quad 8 \quad 1 \quad + \quad 7 \quad 2 \quad + \quad \square \quad \square \quad + \quad \square \quad \square \\
 \hline
 9 \quad 9 \quad \quad 9 \quad 9 \quad \quad \square \quad \square \quad \quad \square \quad \square
 \end{array}$$



快乐作业 4

基础练功房

1. 不计算,你能判断出它们的大小吗?

$17+61$ ○ $61+17$

$32+67$ ○ $32+65$

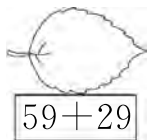
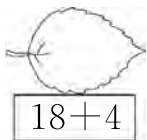
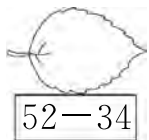
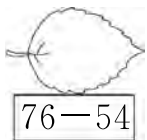
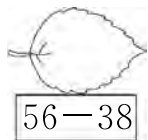
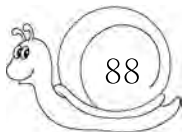
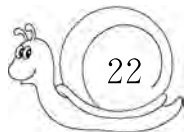
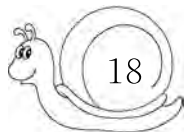
$36+41$ ○ $38+41$

$5+47$ ○ $45+5$

$70+19$ ○ $19+40$

$35+36$ ○ $36+37$

2. 算一算,连一连。



3. 画一画,填一填。

(1)画△:△比○多3个。



△有()个。 □○□=□(个)

(2)画○:○比☆少4个。



○有()个。 □○□=□(个)

4.

我比依依多得15朵。



淘淘

我这个星期得了26朵小红花。



依依

我比依依少得15朵。



壮壮

(1)淘淘得了多少朵小红花?

(2)壮壮得了多少朵小红花?

综合练习室

5. 龙门小学二年级学生参加体育小组人数如下表。

项目			
	跳高	踢球	游泳
人数	25 人	19 人	比跳高的多 10 人

(1) 参加跳高的人数比踢球的人数多多少人?

(2) 参加游泳的有多少人?

(3) 你还能提出其他数学问题并解答吗?

6.



龙一鸣攒了多少元?

7. 寒假里, 淘淘和苹苹参加社会实践活动, 去卖报纸。



(1) 苹苹卖了多少份?

(2) 淘淘和苹苹一共卖了多少份?

能力展示台

8. 龙一鸣在用竖式计算 48 加一位数时, 把这个一位数与 48 的十位相加了, 结果得 88, 你知道正确的结果是多少吗?



快乐作业 5

基础练功房

1. 比一比,看谁先回家。

$42-24=$ $+35=$ $-21=$ $+67=$

$25+55=$ $-29=$ $+35=$ $-41=$

2. 画出跷跷板。

$90-42$ $71+14$ $85-67$ $71-14$

$63-45$ $72-46$ $87-19$ $93-25$

3. 依依的妈妈微信钱包里有 45 元,给依依买一本故事书花了 27 元,妈妈的微信钱包里还剩多少元?

← 交易详情

转账成功
¥27.00
查看零钱

4. 猫妈妈和小猫一起去钓鱼。

我钓了 26 条鱼。
 我钓了 18 条鱼。

猫妈妈 小猫

你能提出什么数学问题?

问题 1: _____ $\square \bigcirc \square = \square$ (条)



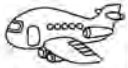

问题 2: _____ $\square \bigcirc \square = \square$ (条)

5.



小猴挖了多少个花生?

6.

			
28元	31元	19元	20元

(1) 你喜欢买哪两种玩具? 需要多少元?

$$\square \bigcirc \square = \square (\text{元})$$

(2) 哪两种玩具最贵? 共需要多少元?

$$\square \bigcirc \square = \square (\text{元})$$

(3) 说一说 50 元正好可以买哪两种玩具?

能力展示台。

7. 把 43、44、45、46 这 4 个数填入 \square 中。

$$\square + \square - \square = \square$$

快乐阅读吧。

盲人数学家——欧拉

欧拉是瑞士人,世界著名数学家之一。1707 年出生,1783 年逝世。他一生研究数学,写了许多书和几百篇论文。



欧拉在 28 岁时,由于过度劳累,不幸一只眼睛失明了;59 岁时,另一只眼睛也失明了。欧拉双目失明后,仍然继续研究数学,还口述了几本数学著作和多篇论文。

欧拉的记忆力很强,能复述青年时代的笔记内容。他不仅掌握了一般的口算,甚至连高等数学中的计算问题也可以口算完成。


欧拉的一生是伟大的,他给人类留下了丰富的数学遗产。




综合作业 1

1. 辨一辨。(对的画“√”,错的画“×”)

(1)用学生尺画线段时,从刻度“2”画到刻度“8”,长是7厘米。 ()

(2)  左图是由3条线段围成的。 ()

(3)教学楼高20厘米。 ()

(4)  左边的两条线段长度相等。 ()

2. 算一算。

13厘米+78厘米= 1米-92厘米=

39厘米+25厘米= 80米-43米=

64米+26米= 99厘米-79厘米=

3. 找规律。



4. 比一比。

运动会上,四个小朋友参加了跳远比赛,她们的成绩分别如下:



黄霏霏 陆云云 苹苹 依依
1米35厘米 1米 98厘米 1米40厘米

她们的排名分别是:

名次	第一名	第二名	第三名	第四名
姓名				

5. 哥哥今年15岁,妈妈比哥哥大29岁,妹妹比哥哥小8岁。

(1)妈妈今年多少岁? (2)妹妹今年多少岁?

玩数学

玩转火柴棒

游戏介绍

玩火柴棒游戏可以丰富我们的想象力,促进智力发展。利用这些火柴棒,可以摆出数字、图形,还能摆出许多有趣的物体形状。

游戏一:巧移火柴棒,使等式成立。

下面是用火柴棒摆成的式子,左右两边是不相等的。

$$9 - 5 = 8$$



如果只移动一根火柴棒,使等式成立,该怎样移呢?



移动时,火柴棒不能增加和减少哟!

可以将 8 中间的一根,移到 5, 使 5 变成 9, 等式就成立了。



即是: $9 - 9 = 0$

小朋友,你学会了吗? 试一试吧!

$$67 + 9 = 10$$

$$2 \times 8 = 19$$

游戏二:用火柴棒摆图形。

摆 1 个三角形至少要 3 根火柴棒,摆 2 个三角形至少要 5 根火柴棒,摆 3 个三角形至少要 7 根火柴棒。(如下图)



再加 2 根火柴棒,你能使它变成 5 个三角形吗? 摆摆看。

游戏三:巧移火柴棒,改变图形的方向。

移动三根火柴棒,使这条鱼的头向着壮壮。



壮壮



苹苹



快乐作业 6

基础练功房

1.
$$\begin{array}{r} 82 \\ - 35 \\ \hline (\quad) \end{array}$$

$$\begin{array}{r} 70 \\ - 21 \\ \hline (\quad) \end{array}$$

$$\begin{array}{r} 65 \\ + 18 \\ \hline (\quad) \end{array}$$

$$\begin{array}{r} - 26 \\ \hline (\quad) \end{array}$$

$$\begin{array}{r} + 34 \\ \hline (\quad) \end{array}$$

$$\begin{array}{r} - 39 \\ \hline (\quad) \end{array}$$

2. 列竖式计算。

$25 + 37 + 29 =$ $74 - (15 + 55) =$ $42 - 9 + 38 =$

$80 - 66 + 54 =$ $52 + (62 - 43) =$ $65 - (75 - 39) =$

3. 夺红旗。

(1) $27 \xrightarrow{+10} \square \xrightarrow{+14} \square \xrightarrow{+39} \square$

(2) $87 \xrightarrow{-24} \square \xrightarrow{-30} \square \xrightarrow{-19} \square$

(3) $36 \xrightarrow{+4} \square \xrightarrow{-17} \square \xrightarrow{+48} \square$

4. 帮小动物找家。(连一连)

$87 - (22 + 28)$ $43 + 19 - 24$ $80 - 43 + 21$

5.

我有50元，买下面两件玩具，还剩多少元？

28元 19元

综合练习室

6.

1月初手机里有52元话费，
1月用了37元话费。



黄老师

(1)黄老师 1 月还剩多少元话费？

(2)如果再充 50 元，手机里就有多少元话费了？

7. 壮壮的爸爸买一份儿童套餐和一份成人套餐，付给营业员 70 元，应找回多少元？



儿童套餐
24元



成人套餐
27元

8. 学校足球队原来有 28 人。



学校足球队还有多少人？新学期又有 12 人加入了足球队，现在学校足球队有多少人？

能力展示台

9. 在 里填上合适的数。

$$\begin{array}{r} 5 \square \\ - \square 6 \\ \hline \square 2 \\ + 4 \square \\ \hline 7 1 \end{array}$$

$$\begin{array}{r} 5 \square \\ + \square 9 \\ \hline \square 4 \\ - 3 7 \\ \hline 5 \square \end{array}$$



快乐作业 7

基础练功房

1. $26 \xrightarrow{+18} \square \xrightarrow{+7} \square \xrightarrow{+9} \square \xrightarrow{+16} \square \xrightarrow{+19} \square$
 $95 \xrightarrow{-20} \square \xrightarrow{-7} \square \xrightarrow{-14} \square \xrightarrow{-26} \square \xrightarrow{-28} \square$


2. 将得数相等的算式连起来。

$29 + 34 - 31$
 $56 - 32 - 11$
 $35 + 41 + 16$

$35 + 45 + 12$
 $19 + 30 - 17$
 $64 - 24 - 27$

3. 下面的计算对吗？对的画“√”，错的画“×”，并改正。

$$\begin{array}{r} 18 \\ + 4 \\ \hline 58 \\ + 31 \\ \hline 89 \end{array}$$

改正：

()

$$\begin{array}{r} 82 \\ - 46 \\ \hline 46 \\ - 18 \\ \hline 38 \end{array}$$

改正：

()

4. 二(2)班有男生 27 人,女生 25 人,其中 18 人戴了眼镜。

(1)这个班没戴眼镜的有多少人?

(2)针对这种情况,你有什么想法?

5.



58元



比上衣便宜24元

一条裤子多少元? 买这样一套衣服一共要花多少元?



买一盒积木拼图和一盒智力拼板一共要用多少元？妈妈付给售货员 50 元，应找回多少元？

7. 体育器材室有 100 根跳绳，一班借走了 30 根，二班比一班少借 2 根。

(1) 二班借走了多少根？

(2) 三班需要 50 根，剩下的跳绳够不够？

能力展示台。

8. 壮壮在做减法计算时，把被减数 75 看成了 90，结果得到的差是 55，你知道正确的差是多少吗？

把被减数看成 90，
 $90 - 75 = 15$ ，被减数
 看大了 15，所以差
 也大了 15。



快乐阅读吧。

趣题解答

房间的桌子上有 9 根刚刚点燃的蜡烛，一阵风从窗户吹进来，吹灭了 2 根蜡烛。过了一会儿，又有 1 根蜡烛被风吹灭了。把窗户关起来后，再也没有蜡烛被吹灭。问：最后还剩几根蜡烛？

这是一道非常有趣的数学问题，但你如果不小心，就可能会落入“圈套”。点燃的 9 根蜡烛，有 3 根被风吹灭，其余的会一直燃烧下去，直到燃尽为止。所以最后剩下的蜡烛就是被风吹灭的那 3 根。






我们学校的运动会

运动会对于我们这些活泼的小学生来说，是多么值得期待的事情！每学期一开学，我们就盼望着运动会的到来。

运动会终于来了！这一天，校园里彩旗飘扬，多么隆重的日子！多么盛大的运动会！

期盼已久的学校运动会终于开幕了！开幕式上，各种表演精彩纷呈，热闹极了！



1.




我们学校一共有6个年级，每个年级有4个班。

这次运动会，每个班派出一个代表队，一共有多少个代表队？



2.



我们二年级每个班有50人，其中二(1)班~二(3)班每班有9名运动员，二(4)班只有8名运动员。




二年级每个班剩下的同学都参加了啦啦队。

(1) 二(4)班的啦啦队有多少人？

(2) 二年级一共有多少名运动员？

3. 开幕式上, 运动员进行了方阵表演。



(1) 气球方阵比彩旗方阵多几人?

(2) 花环方阵和气球方阵一共有多少人?


4. 开幕式后, 比赛开始啦! 下面是三名同学扔沙包的
成绩, 请在括号里填上合适的长度单位。

刘星	500()
王平	6()
李强	400()

领奖台上分别是谁? 在括号里写上他们的名字。



5. 接力赛有趣极了, 大家都争当第一名。



每班选出4名男生、4名女生参加接力赛。



每班参加接力赛的有几名选手?

二年级4个班参加接力赛的一共有多少名选手?



6. 我们最后还进行了拔河比赛。



每两个班进行一场拔河比赛。

我们二年级4个班一共要赛多少场?



参考答案

玩开心游戏 做快乐作业

1. 12 是 6 和 2 的乘积。
 2. 17
 3. 6 12 15 16 18
 4. 70
 5. 可圈: 13 14 17 19 20
 21 22 23 25 27 28
 29 31 32 34 35 37
 38 39 40 41 43 44
 45 47

快乐作业 1

1. 2 4 8
 2. (1) 厘米 米 (2) 10
 (3) $< = > >$
 3. 80 厘米
 4. 3 4 3 4 5
 5. $\times \times \checkmark$
 6. 略
 7. $20 - 7 = 13$ (厘米)

快乐阅读吧

15 40 1 18(答案不唯一)

快乐作业 2

1. 93 对齐 个 十 十
 43 对齐 个 十
 2. 11 76 22 70 39 80
 3. (\times)64 (\times)85
 4. 3 7 1
 5. 9 7 7 6 4 6
 6. $47 + 28 = 75$ (个)
 7. (1) $38 + 32 = 70$ (元)

可以买玩具火车和玩具小

汽车。(答案不唯一)

(2) $100 - 38 = 62$ (元)

(3) 略

8. (1) 1 8 (2) 5 2

快乐作业 3

1. 82 59 67 37 65 76

2. 54 54 85 85

$36 + 34 = 70$ $34 + 36 = 70$

(答案不唯一) 不变



4. (1) $56 - 42 = 14$ (下)

(2) $56 - 37 = 19$ (下)

5. (1) $35 + 48 = 83$ (个)

(2) $50 - 35 = 15$ (个)

(3) 略

6. 篮球: $45 - 8 = 37$ (元)

足球: $39 - 8 = 31$ (元)

7. $46 - 35 = 11$ (人)

8. (1) $35 - 28 = 7$ (元)

(2) $42 - 35 = 7$ (元)

3 6 4 5

9. $\begin{array}{r} + 6 3 \\ 9 9 \end{array} \quad \begin{array}{r} + 5 4 \\ 9 9 \end{array}$

(答案不唯一)

快乐作业 4

1. $= > < > > <$



3. (1) 画 11 个 \triangle 11

$8 + 3 = 11$

(2) 画 6 个 \bigcirc 6

$10 - 4 = 6$

4. (1) $26 + 15 = 41$ (朵)

(2) $26 - 15 = 11$ (朵)

5. (1) $25 - 19 = 6$ (人)

(2) $25 + 10 = 35$ (人)

(3) 略

6. $72 + 18 = 90$ (元)

7. (1) $18 + 9 = 27$ (份)

(2) $18 + 27 = 45$ (份)

8. $88 - 48 = 40$ $48 + 4 = 52$

快乐作业 5

1. 18 53 32 99 80 51

86 45

2. $\diagdown \quad \diagup \quad \text{—}$

3. $45 - 27 = 18$ (元)

4. 猫妈妈和小猫一共钓了多少条鱼? $26 + 18 = 44$ (条)

猫妈妈比小猫多钓多少条鱼? $26 - 18 = 8$ (条)

5. $84 - 9 = 75$ (个)

6. (1) 略

(2) 篮球和玩具坦克最贵。

$31 + 28 = 59$

(3) 篮球和玩具飞机。

7. $43 + 46 - 44 = 45$ (答案不唯一)

综合作业 1

1. (1) \times (2) \times (3) \times

(4) \checkmark

2. 91 厘米 8 厘米 64 厘米

37 米 90 米 20 厘米

3. (1) 72 80 84

(2) 59 52 38

4. 依依 黄霏霏 陆云云

苹苹

5. (1) $29 + 15 = 44$ (岁)

(2) $15 - 8 = 7$ (岁)

快乐作业 6

1. 47 21 49 83 83 44

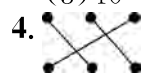
2. 91 4 71 68 71 29

竖式略

3. (1) 37 51 90

(2) 63 33 14

(3) 40 23 71



5. $28 + 19 = 47$ (元)

$50 - 47 = 3$ (元)

6. (1) $52 - 37 = 15$ (元)

(2) $15 + 50 = 65$ (元)

7. $24 + 27 = 51$ (元)

$70 - 51 = 19$ (元)

8. $28 - 10 = 18$ (人)

$18 + 12 = 30$ (人)

9. $\begin{array}{r} 58 \\ - 36 \\ \hline 22 \end{array} \quad \begin{array}{r} 55 \\ + 39 \\ \hline 94 \end{array}$

$\begin{array}{r} 22 \\ + 49 \\ \hline 71 \end{array} \quad \begin{array}{r} 94 \\ - 37 \\ \hline 57 \end{array}$

快乐作业 7

1. 44 51 60 76 95

75 68 54 28 0

2. 略

3. $\begin{array}{r} 18 \\ + 4 \\ \hline 22 \end{array} \quad \begin{array}{r} 82 \\ - 46 \\ \hline 36 \end{array}$

$\begin{array}{r} \times \\ + 31 \\ \hline 53 \end{array} \quad \begin{array}{r} \times \\ - 18 \\ \hline 18 \end{array}$

4. (1) $27+25=52$ (人)
 $52-18=34$ (人)

(2)略

5. $58-24=34$ (元)
 $58+34=92$ (元)

6. $19+23=42$ (元)
 $50-42=8$ (元)

7. (1) $30-2=28$ (根)
 (2) $28+30=58$ (根)
 $100-58=42$ (根)
 $42<50$, 不够。

8. $90-75=15$ $55-15=40$

我们学校的运动会

1. $6\times 4=24$ (个)

2. (1) $50-8=42$ (人)
 (2) $3\times 9+8=35$ (名)

3. (1) $64-49=15$ (人)
 (2) $36+64=100$ (人)

4. 厘米 米 厘米
 刘星 王平 李强
 (从左到右)

5. $4+4=8$ (名) $8\times 4=32$ (名)

6. 6场

快乐作业 8

1. 略

2. 1 2 三角板上的直角

3. (1) \checkmark \times \checkmark \times
 (2) \times \checkmark \times \checkmark

4. ③④ ⑤⑧ ①⑥ ②⑦

5. 钝 直 锐 ③②①

6. 3 1 4 4 4 2

7. 略 8. 略

9. 钝角 锐角 直角 钝角

10. 直 钝 锐 钝
 快乐作业 9

1. 3 8 $8+8+8=24$
 $8\times 3=24$ $3\times 8=24$

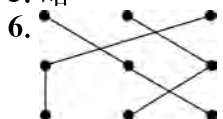
2. (1) 4 3 4 3 4 乘 3
 (2) 5 3 5 3 5 乘 3
 (3) 3 4 3 4 3 乘 4

(答案不唯一)

3. 4 5 5 4 1 5 5 1

4. (1) $5\times 2=10$ $2\times 5=10$
 (2) $3\times 2=6$ $2\times 3=6$

5. 略



7. 37 37 74 15 15 15
 45 40 40 80

快乐阅读吧

这些数呈一条斜线; 这些数
 个位上的数和十位上的数相
 加等于 9。(答案不唯一)

快乐作业 10

1. 得九 三 五 四 二
 十二 四 二 得一

2. $3\times 4=12$ $4\times 3=12$
 $2\times 3=6$ $3\times 2=6$

$4\times 5=20$ $5\times 4=20$
 $1\times 4=4$ $4\times 1=4$

$2\times 4=8$ $4\times 2=8$
 $1\times 3=3$ $3\times 1=3$

3. (1) $2\times 3=6$ $3\times 2=6$
 二三得六

(2) $3\times 4=12$ $4\times 3=12$
 三四十二

(3) $4\times 6=24$ $6\times 4=24$
 四六二十四

4. 略

5. 20 $4\times 5=20$ (个)
 四五二十

6. 4 $4\times 3=12$ 三四十二

7. $4\times 5=20$ (人)
 $20>18$ 能住下。

8. 3 2 5

9. $1\times 3=3$ (个)
 $2\times 3=6$ (个)
 $3\times 3=9$ (个)

综合作业 2

1. 70 18 28 竖式略

2. (1) 4 24 (2) 4 4 4
 $4+4+4=12$ (个)

$3\times 4=12$ (个)
 $4\times 3=12$ (个)

3. (1) $38+9=47$ (元)
 (2) $47-7=40$ (元)

4. (1) $35+65=100$ (元)
 $100>94$ 不够。

(2) $5\times 5=25$ (元)

快乐作业 11

1. 15 9 8 10 20 8

2. $4\times 3+3=15$ (个)
 $4\times 4-1=15$ (个)

3. (1) $2\times 3+4=10$
 (2) $3\times 4+4=16$

4. 略

5. $= > = > > <$

6. (1) 3×6 (2) 4×5
 (3) 3×4 (4) 4×7

7. (1) $5\times 5-3=22$ 或
 $5\times 4+2=22$

(2) $5\times 4-3=17$ 或
 $5\times 3+2=17$ 1

8. $5\times 3+2=17$
 或 $5\times 4-3=17$ 17

9. $6\times 3+2=20$ (只)

快乐作业 12

1. 四 六 二 三十 六
 三十六

2. 6 8 2 6 1 4 9 9
 5 5 7 7

3. 3×4 4×3 2×6 6×2

4. $+$ $-$ \times \times \times \times
 $+$ \times \times

5. 4 5 5 4 6 6

6. $3\times 6=18$ (元)

7. (1) $4+6=10$ (杯)
 (2) $4\times 6=24$ (杯)

8. (1) $5+4=9$ (只)
 (2) $3\times 3=9$ (头)

9. (1) $3\times 5=15$ (张)
 (2) $5-3=2$ (张)

$2\times 3=6$ (张)

10. $3\times 4=12$ (米)

快乐作业 13

1. (\checkmark) () () (\checkmark)
 (\checkmark) ()

2. 略

3. 蜗牛 小鸡 小鸟

4. B A C